

DINAS PENDIDIKAN DAN KEBUDAYAAN  
**SMP NEGERI 3 LAWANG**  
**ULANGAN TENGAH SEMESTER ( UTS ) GENAP**  
TAHUN PELAJARAN 2007 / 2008

---

---

Mata Pelajaran : IPS  
Kelas : VII ( TUJUH )  
Hari, tanggal : Jum'at, 14 Maret 2008  
Waktu : 60 Menit

PETUNJUK UMUM:

1. Tulis nama, kelas, nomor peserta Anda pada lembar jawab.
2. Arsirlah atau hitamkan huruf A, B, C, dan D yang menurut Anda merupakan jawaban yang paling tepat.
3. Gunakan pensil 2B, dan penghapus karet yang baik.
4. Apabila ingin mengganti jawaban hapuslah jawaban tersebut dengan karet penghapus dan arsir / hitamkan jawaban yang benar.

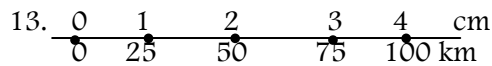
1. Untuk membedakan antara peta, atlas dan globe. Pengertian peta adalah....
  - a. gambar bumi yang diperkecil
  - b. gambar konvensional permukaan bumi di atas bidang datar diperkecil dengan menggunakan skala
  - c. tiruan bumi
  - d. gambaran tentang daratan dan lautan
2. Peta umum dan peta tematik adalah pengelompokan jenis peta berdasarkan....
  - a. isi
  - b. skala
  - c. bentuk
  - d. manfaat
3. Untuk mencari letak suatu kota kecil. Gunung, danau pada atlas, sebaiknya kita mencari pada bagian....
  - a. legenda
  - b. daftar isi
  - c. Indeks
  - d. Inset
4. Untuk mengetahui pembagian iklim pada peta, atlas, dan globe kita dapat melihat....
  - a. garis bujur
  - b. garis tepi
  - c. Garis lintang & bujur
  - d. garis lintang
5. Peta yang tersimpan dalam disket, atau VCD berdasarkan bentuknya peta tersebut termasuk jenis peta....
  - a. peta biasa
  - b. peta timbul
  - c. peta umum
  - d. peta digital
6. Fungsi utama garis bujur pada peta adalah untuk menentukan....
  - a. daerah iklim di bumi
  - b. lokasi suatu tempat
  - c. pembagian daerah waktu
  - d. daerah laut di bumi
7. Berdasarkan skalanya, peta geografis memiliki skala....
  - a. 1 : 5.000 – 1 : 250.000
  - b. 1 : 250.000 – 1 : 500.000
  - c. 1 : 100 – 1 : 5000
  - d. 1 : 1.000.000 ke atas
8. Berdasarkan ketentuan internasional, setiap selisih 15° garis bujur terjadi selisih waktu....
  - a. Satu jam
  - b. Dua jam
  - c. Tiga jam
  - d. empat jam
9. Nama lain dari peta relief yaitu peta.....
  - a. Peta Biasa
  - b. Peta Timbul
  - c. Peta Digital
  - d. Peta Datar
10. Peta yang menggambarkan kenampakan tertentu di permukaan bumi untuk tujuan tertentu disebut peta....
  - a. Topografi
  - b. Khusus/ tematik
  - c. Umum
  - d. statistik
11. Perhatikan data peta di bawah ini:
  1. peta iklim
  2. peta kepadatan penduduk
  3. peta topografi
  4. peta perhubungan
  5. peta curah hujan
  6. peta kartografi
  7. peta pariwisata
  8. peta dunia

Data tersebut yang termasuk peta khusus atau tematik adalah...

- a. 1,2,4,5,7                      b. 1,3,4,6,7                      c. 1,2,4,6,8                      d. 1,3,5,7,8

12. Dalam peta berskala 1 : 10.000.000 artinya setiap 1 cm pada peta sama dengan jarak sebenarnya di lapangan

- a. 10 km                      b. 1.000 km                      c. 100 km                      d. 10.000 km



Skala garis yang digambar setiap 1 cm pada peta mewakili jarak.....yang sebenarnya di lapangan.

- a. 50 km                      b. 75 km                      c. 100 km                      d. 25 km

14. Cara memperbesar atau memperkecil peta yang paling sederhana tanpa menggunakan alat khusus adalah dengan cara....

- a. Foto copy                      b. Foto udara                      c. Pantograf                      d. sistem petak/ dam

15. Untuk dapat membedakan antara peta dengan atlas. Yang dimaksud atlas yaitu....

- a. Gambar peta yang dibuat pada bidang datar  
b. Kumpulan peta yang dijilid dalam bentuk buku  
c. Kumpulan peta yang bergambar buku  
d. gambaran peta yang dibuat pada bola

16. Alat yang digunakan untuk memperbesar dan memperkecil peta adalah....

- a. Pantograf                      b. Kertograf                      c. Isograf                      d. termograf

17. garis bujur yang ditetapkan sebagai garis tanggal internasional adalah....

- a. 90° BT                      b. 90° BB                      c. 180° BT/ 180° BB                      d. 0° BB/ BT

18. Garis bujur 180°BB dan 180° BT berhimpit di....

- a. Samudra Hindia                      b. Samudra Artik                      c. Samudra Atlantik                      d. Samudra Pasifik

19. Jarak antara kota A dan B pada peta adalah 20 cm, sedang jarak yang sebenarnya di lapangan 8 km, maka skala yang dipakai adalah....

- a. 1 : 16.000.000                      b. 1 : 1.600.000                      c. 1 : 400.000                      d. 1 : 40.000

20. Sebuah peta berskala 1 : 1.000.000. Peta tersebut di perbesar 2 kali. Maka skala peta yang baru adalah :

- a. 1 : 2.000.000                      b. 1 : 2.500.000                      c. 1 : 1. 500.000                      d. 1 : 500.000

21. Garis-garis pada globe yang menghubungkan kutub utara dan selatan disebut....

- a. Garis bujur                      b. Garis balik                      c. Garis equator                      d. garis lintang

22. Agar kita dapat membedakan antara atlas dengan globe. Suatu tiruan bumi dalam bentuk ukuran yang kecil disebut....

- a. peta                      b. maket                      c. globe                      d. denah

23. Garis yang mendatar atau horizontal pada globe disebut garis....

- a. horizon                      b. bujur                      c. meridian                      d. lintang

24. Garis lintang yang membagi permukaan bumi atau globe menjadi belahan yang sama disebut...

- a. meridian                      b. lini/ equator                      c. Balik                      d. Artik

25. Dalam indeks atlas tertulis “ kota Semarang, 18 S 8”, maka angka 18 pada indeks tersebut menunjukkan.....

- a. kolom vertical                      b. lajur                      c. kolom horizontal                      d. halaman atlas

26. Dari soal no. 25, huruf S pada indeks tersebut menunjukkan ....

- a. kolom                      b. lajur                      c. halaman                      d. kolom horizontal

27. Dari no. 25, sedang angka 8 pada indeks tersebut menunjukkan ....


- a. kolom                      b. lajur                      c. kolom vertical                      d. halaman

28. Peta yang berskala 1 : 500.000 jika diperkecil dua kali, maka skala peta yang baru adalah...

- a. 1 : 250.000                      b. 1 : 750.000                      c. 1 : 10.000.000                      d. 1 : 1.000.000

29. Berikut yang bukan merupakan informasi yang diperoleh dari penggunaan globe adalah...
- Menunjukkan sistem garis lintang dan garis bujur
  - Memperagakan rotasi bumi
  - Memperagakan terjadinya siang dan malam
  - menunjukkan suatu wilayah pada daftar isi


30. Perhatikan skala garis di bawah ini



Berdasarkan skala garis di atas, bila di ubah ke dalam skala angka menjadi....

- 1 : 2.500.000
  - 1 : 1.000.000
  - 1 : 10.000.000
  - 1 : 25.000.000
31. Peta tersebut di bawah ini yang termasuk peta umum adalah....
- Peta curah hujan di pulau jawa
  - Peta penyebaran penduduk di Indonesia
  - Peta topografi pulau Sumatra
  - Peta pariwisata di propinsi Bali
32. Dilihat dari bentuknya, peta yang dipakai oleh bapak/ ibu guru mengajar di kelas termasuk jenis peta....
- Digital
  - Timbul
  - Relief
  - Datar
33. Garis astronomis pada peta digunakan untuk menentukan....
- Ketinggian suatu tempat
  - letak suatu tempat
  - Pembagian waktu saja
  - Pembagian iklim saja
34. Informasi yang dapat diketahui dengan menggunakan skala peta adalah sebagai berikut, kecuali....
- Jarak
  - Letak
  - Luas
  - Panjang
35. Kedudukan globe selalu dibuat miring  $66 \frac{1}{2}^\circ$  karena hal ini sesuai dengan...
- Rotasi bumi
  - Revolusi bumi
  - Bentuk bumi
  - Kedudukan bumi yang sebenarnya
36. Agar simbol-simbol peta dapat dibaca dengan baik, maka dalam peta diberi....
- Skala
  - legenda
  - Penunjuk arah
  - garis astronomis
37. Warna biru dalam peta menggambarkan daerah...
- Daratan
  - Pegunungan
  - Perairan
  - puncak gunung
38. Untuk memudahkan mencari pulau-pulau dalam atlas digunakan....
- Daftar isi
  - Indeks
  - Legenda
  - Judul
39. Tujuan dibuat inset adalah....
- Memperjelas suatu daerah terhadap daerah sekitarnya
  - Peta yang dibuat lebih mudah dipahami
  - Dapat dengan mudah menentukan tempat yang dicari
  - untuk melengkapi komponen-komponen peta

- 40.



- Meander

Bentang alam yang dilambangkan dengan simbol peta di samping berupa....

- Sungai
- Jalan raya
- batas wilayah