

MATA PELAJARAN

Mata Pelajaran : Ekonomi
Program Studi : IPS

PELAKSANAAN

Hari/Tanggal : Kamis, 24 April 2008
Jam : 08.00 – 10.00

PETUNJUK UMUM

1. Isikan identitas Anda ke dalam Lembar Jawaban Ujian Nasional (LJUN) yang tersedia dengan menggunakan pensil 2B sesuai petunjuk di LJUN.
 2. Hitamkan bulatan di depan nama mata ujian pada LJUN.
 3. Tersedia waktu 120 menit untuk mengerjakan paket tes tersebut.
 4. Jumlah soal sebanyak 40 butir, pada setiap soal terdapat 5 (lima) pilihan jawaban.
 5. Periksa dan bacalah soal-soal sebelum Anda menjawabnya.
 6. Laporkan kepada pengawas ujian apabila terdapat lembar soal yang kurang jelas, rusak, atau tidak lengkap.
 7. Mintalah kertas buram kepada pengawas ujian, bila diperlukan.
 8. Tidak diizinkan menggunakan kalkulator, HP, tabel matematika atau alat bantu hitung lainnya.
 9. Periksalah pekerjaan Anda sebelum diserahkan kepada pengawas ujian.
 10. Lembar soal tidak boleh dicoret-coret.
-

Perhatikan pernyataan berikikut ini:

1. I. barang apa yang harus dikonsumsi
- II. bagaimana cara mengonsumsi
- III. siapa yang memproduksi
- IV. barang apa yang diproduksi
- V. bagaimana cara memproduksi
- VI. untuk siapa barang diproduksi

Berdasarkan pernyataan-pernyataan di atas, yang merupakan masalah pokok perekonomian adalah ...

- A. I, II, dan III
 - B. I, III, dan V
 - C. II, IV, dan VI
 - D. III, IV, dan V
 - E. IV, V, dan VI
2. Di daerah perkotaan yang padat penduduknya harga tanah menjadi sangat mahal. Untuk mengatasi mahalnya harga tanah tersebut cara yang paling tepat dilakukan adalah ...
- A. membangun rumah susun di daerah perkotaan
 - B. membangun rumah sangat sederhana bagi penduduk miskin
 - C. merelokasi pabrik ke luar kota
 - D. menggalakkan program transmigrasi
 - E. membatasi urbanisasi
3. Di bawah ini merupakan ciri-ciri sistem ekonomi:
1. hanya produksi yang menguasai hajat hidup rakyat dilaksanakan oleh pemerintah
 2. kebijakan perekonomian sepenuhnya dikuasai pemerintah
 3. kebijakan ekonomi untuk mengendalikan keadaan ekonomi
 4. masyarakat terbagi dua golongan yaitu pengusaha dan tenaga kerja
 5. pembagian pekerjaan ditentukan pemerintah

Yang merupakan ciri sistem ekonomi campuran adalah ...

- A. 1 dan 2
- B. 1 dan 3
- C. 2 dan 3
- D. 3 dan 4
- E. 4 dan 5

4. Perhatikan tindakan-tindakan yang dilakukan oleh seseorang:
1. Budi seorang pelajar memilih membeli buku pelajaran daripada jam tangan, karena uangnya terbatas.
 2. Bu Sumarto sebagai ibu rumah tangga memilih berbelanja di pasar tradisional karena harganya lebih murah dibandingkan di pasar swalayan.
 3. Pak Hendro menjual mobil bekasnya untuk membayar uang muka mobil kreditan keluaran terbaru.
 4. Bu Susanto setiap hari membeli makanan siap saji karena lebih praktis dibandingkan masak sendiri.

Dari uraian di atas tindakan yang bersifat rasional adalah ...

- A. 1 dan 2
 - B. 1 dan 4
 - C. 2 dan 3
 - D. 2 dan 4
 - E. 3 dan 4
5. Berikut disajikan peran dari rumah tangga ekonomi:
1. menyediakan barang-barang untuk diekspor
 2. menyediakan fasilitas untuk ekspor impor
 3. mengadakan proteksi terhadap industri dalam negeri
 4. mengadakan proteksi terhadap sesuai kebutuhan
 5. menjaga stabilitas harga melalui politik moneter
 6. menggunakan produk dalam negeri

Yang merupakan peran dari rumah tangga pemerintah adalah ...

- A. 1, 2, dan 3
- B. 1, 4, dan 6
- C. 2, 3, dan 5
- D. 3, 4, dan 5
- E. 4, 5, dan 6

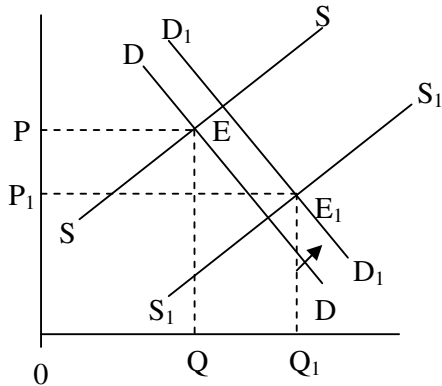
6. Perhatikan tabel berikut!

P	Q
Rp 800,00	40 unit
Rp 1000,00	36 unit

Berdasarkan tabel di atas, maka elastisitas permintaan adalah ...

- A. 0,25
- B. 0,40
- C. 0,50
- D. 1,25
- E. 2,00

7. Perhatikan kurva permintaan dan penawaran di bawah ini.



Kurva di atas menunjukkan, perpotongan kurva DD dengan SS menghasilkan harga keseimbangan awal pada titik E, akibat pergeseran kurva permintaan dan penawaran, maka harga keseimbangan menjadi E_1 sebagai perpotongan dari permintaan baru D_1D_1 dan penawaran baru S_1S_1 , akan tetapi terjadi penurunan harga keseimbangan, hal tersebut terjadi sebagai akibat dari ...

- penurunan penawaran lebih besar jika dibandingkan dengan permintaan.
- peningkatan penawaran sama dengan peningkatan permintaan
- peningkatan penawaran lebih besar jika dibandingkan dengan peningkatan permintaan
- penurunan penawaran lebih kecil jika dibandingkan dengan permintaan
- peningkatan penawaran tidak ada hubungannya dengan peningkatan permintaan

8. Perhatikan tabel berikut!

A	B	C
1. hanya ada satu produsen	1. produk homogen	1. Iklan penting untuk meyakinkan konsumen
2. produk sejenis tetapi berbeda corak	2. kemampuan perusahaan hampir sama	2. pasar sulit dimasuki produsen baru
3. tak ada campur tangan pemerintah	3. ada standar produk	3. hanya ada beberapa produsen

Ciri-ciri pasar persainagn sempurna adalah ...

- A1, B1, dan C1
- A2, B2, dan C1
- A2, B2, dan C2
- A3, B1, dan C1
- A3, B3, dan C3

9. Perhatikan pasar faktor produksi berikut ini!
1. penjualan adalah produsen
 2. lebih diutamakan penawaran keahlian
 3. semakin profesional biasanya harganya semakin tinggi
 4. dibeli oleh perusahaan sebagai bahan baku
 5. merupakan uang tunai yang sangat dibutuhkan produsen

Dari pernyataan di atas, yang merupakan pasar faktor produksi tenaga kerja adalah ...

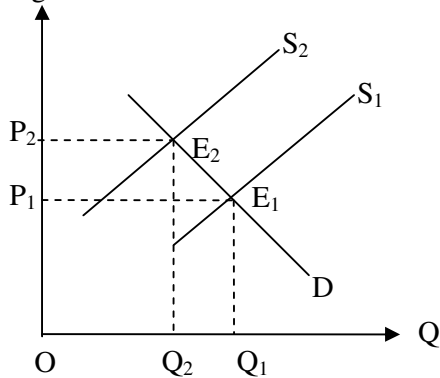
- A. 1 dan 2
 - B. 1 dan 3
 - C. 2 dan 3
 - D. 3 dan 4
 - E. 4 dan 5
10. Data pendapatan nasional (dalam milyar rupiah)

- Upah	4.900	- Laba	3.100	- Sewa	100
- Bunga	200	- Konsumsi	2.000	- Investasi	900
- Belanja pemerintah	1.200	- Ekspor	2.000	- Impor	1.500
- Pertanian	4.800	- Pertambangan	5.000	- Industri	3.000
- Jasa	500				

Berdasarkan data di atas, maka besar pendapatan nasional menurut pendekatan pendapatan adalah ...

- A. Rp 12.900 milyar
- B. Rp 12.100 milyar
- C. Rp 11.600 milyar
- D. Rp 8.300 milyar
- E. Rp 5.500 milyar

11. Indonesia mengalami berbagai masalah ekonomi, sosial, pertahanan dan keamanan yang mendera sampai dengan tahun 2007 sehingga menyebabkan inflasi. Penyebab utamanya adalah turunnya nilai rupiah terhadap dolar Amerika. Grafik inflasi tersebut dapat digambarkan sebagai berikut:



Gambar tersebut adalah grafik inflasi yang disebabkan oleh ...

- A. kenaikan biaya produksi
 B. *cost push inflation*
 C. kelebihan produk di pasaran
 D. *demand pull inflation*
 E. pengaruh inflasi luar negeri
12. Diketahui fungsi konsumsi nasional $C = 50 \text{ trilyun} + 0,8 Y$. Jika pendapatan nasional Rp 900 trilyun, besarnya tabungan masyarakat adalah ...
- A. Rp 850 trilyun
 B. Rp 770 trilyun
 C. Rp 230 trilyun
 D. Rp 130 trilyun
 E. Rp 13 trilyun
13. Faktor-faktor yang memengaruhi permintaan dan penawaran:

No	A	B
1.	Pendapatan naik	Tingkat suku bunga turun
2.	Fasilitas kredit mudah diperoleh	Harga barang di pasar turun
3.	Semakin banyak variasi kekayaan di masyarakat	Sistem pembayaran secara tunai

Berdasarkan matrik tersebut, faktor yang dapat menaikkan permintaan uang adalah ...

- A. A1 dan B1
 B. A1 dan B2
 C. A2 dan B2
 D. A3 dan B1
 E. A3 dan B3

14. Peranan bank umum dan bank sentral adalah :
1. mengelola cadangan devisa
 2. pembiayaan bank yang kesulitan likuiditas jangka pendek
 3. mengatur dan mengawasi perbankan
 4. menghubungkan kepentingan kreditur dan debitur
 5. fasilitator lalu lintas pembayaran

Yang merupakan peranan bank sentral adalah ...

- A. 1, 2, dan 3
 - B. 1, 3, dan 4
 - C. 2, 3, dan 4
 - D. 2, 3, dan 5
 - E. 3, 4, dan 5
15. Berikut ini kebijakan moneter dan kebijakan fiskal:
1. menaikkan tingkat suku bunga
 2. mengurangi pengeluaran pemerintah
 3. menjual belikan surat-surat berharga
 4. menaikkan pajak penghasilan
 5. menaikkan/menurunkan cash ratio

Yang termasuk kebijakan moneter adalah:

- A. 1, 2, dan 5
 - B. 1, 3, dan 5
 - C. 2, 3, dan 5
 - D. 2, 4, dan 5
 - E. 3, 4, dan 5
16. Berikut ini data Produk Domestik Bruto rill Indonesia selama tahun 2003 – 2006.

Tahun	PDB Rill (milyar rupiah)
2003	1.326.000
2004	1.365.780
2005	1.420.408
2006	1.477.224

Berdasarkan data di atas, tingkat pertumbuhan ekonomi tahun 2006 adalah ...

- A. 3,04 %
- B. 3,40 %
- C. 3,47 %
- D. 3,84 %
- E. 4,00 %

17. Globalisasi dalam perdagangan menimbulkan adanya persaingan antar pedagang di masyarakat, banyak pengusaha atau pedagang kecil mengalami kelesuan karena kalah bersaing, dan ada yang sampai gulung tikar, dan sebagai akibatnya timbul penggangguran. Dampak secara langsung dari penggangguran atau PHK yang dilakukan oleh perusahaan adalah ...
- perekonomian semakin lesu
 - industri mengalami penurunan
 - pendapatan masyarakat menurun
 - timbulnya kriminalitas di masyarakat
 - perhatian pemerintah semakin berkurang

18. Di bawah ini sebagian data negara "X" posisinya adalah ...

- Penerimaan rutin = Rp 10.200 milyar
- Penerimaan pembangunan = Rp 10.200 milyar
- Pengeluaran rutin = Rp 30.600 milyar
- Pengeluaran pembangunan = Rp 20.400 milyar

Dari data di atas APBN Negara "X" posisinya adalah ...

- surplus = Rp 30.600 milyar
- defisit = Rp 30.600 milyar
- surplus = Rp 10.200 milyar
- defisit = Rp 10.200 milyar
- defisit = Rp 20.400 milyar

19. Berikut ini disajikan sumber pendapatan pemerintah pusat dan daerah:

- pajak penghasilan
- bagian laba BUMN
- pajak dan retribusi daerah
- bea masuk dan pajak ekspor
- bagian daerah dari bagi hasil

Dari sumber pendapatan di atas, yang termasuk pendapatan daerah adalah ...

- 1 dan 2
- 2 dan 4
- 3 dan 4
- 3 dan 5
- 4 dan 5

20. Diketahui : Pak Burhan memiliki rumah dengan
Luas tanah 100 m² dengan harga @ Rp 160.000,00
Luas rumah 55 m² dengan harga @ Rp 505.000,00
NJOP tidak kena pajak Rp 8.000.000,00

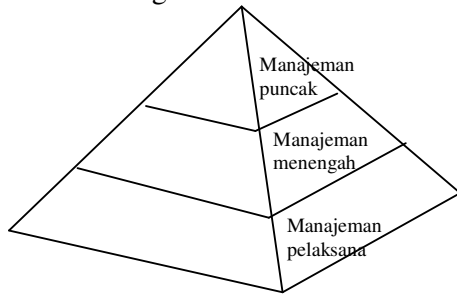
Dari kondisi tersebut, maka Pak Burhan harus membayar Pajak Bumi Bangunan sebesar ...

- A. Rp 35.575,00
 - B. Rp 43.775,00
 - C. Rp 35.775,00
 - D. Rp 35.757,00
 - E. Rp 35.975,00
21. Seorang pelajar dari Amerika berwisata ke Bali dengan bekal uang sejumlah US \$ 20.000,-. Kurs beli saat itu Rp 8.900,00 dan jual Rp 9.040,00. Berarti dia akan memperoleh jumlah nilai rupiah sebesar ...
- A. Rp 178.000.000,00
 - B. Rp 178.800.000,00
 - C. Rp 180.800.000,00
 - D. Rp 187.200.000,00
 - E. Rp 188.200.000,00
22. Harga listrik dan bahan bakar minyak di Indonesia tergolong murah dibanding dengan negara lain. Kebijakan pemerintah tersebut diharapkan mampu menurunkan harga produk didalam negeri sehingga harganya terjangkau oleh masyarakat luas. Kebijakan pemerintah tersebut dinamakan kebijakan ...
- A. ekspor
 - B. impor
 - C. subsidi
 - D. dumping
 - E. proteksi
23. Berikut ini surat-surat berharga:
- 1. saham
 - 2. SBI
 - 3. *commercial paper*
 - 4. obligasi

Surat berharga di atas yang diperdagangkan di pasar modal adalah ...

- A. 1 dan 2
- B. 1 dan 3
- C. 1 dan 4
- D. 2 dan 3
- E. 2 dan 4

24. Perhatikan gambar!



Berdasarkan gambar di atas, jabatan direktur utama termasuk dalam ...

- A. dewan komisaris
 - B. manajemen puncak
 - C. manajemen menengah
 - D. manajemen tingkat bawah
 - E. semua level manajemen
25. Dewasa ini keberadaan *home industry* semakin terasa dalam meningkatkan pendapatan masyarakat. Dalam upaya meningkatkan kualitas dan kuantitas produksinya terdapat beberapa *home industry* yang menggunakan mesin-mesin produksi. Upaya tersebut secara ekonomi memiliki kelebihan dan kekurangan. Yang menjadi kekurangannya adalah ...
- A. dapat menimbulkan persaingan negatif antar pengusaha
 - B. keuntungan masing-masing *home industry* akan berkurang
 - C. akan terjadi *over* produksi sehingga dapat mengekspor ke negara lain
 - D. dapat meningkatkan jumlah pengangguran
 - E. tidak menghargai warisan dari perintis *home industry*
26. Di Indonesia tersebar banyak Koperasi Unit Desa yang berperan besar dalam mensejahterakan masyarakat desa, khususnya petani. KUD di suatu daerah ada yang melakukan usaha penjualan kebutuhan pokok masyarakat (petani), menerima tabungan dan memberi pinjaman uang pada petani dan juga mengadakan budidaya tambak ikan. Ditinjau dari jenis usahanya, koperasi tersebut adalah ...
- A. koperasi konsumsi
 - B. koperasi primer
 - C. koperasi produksi
 - D. koperasi sekunder
 - E. koperasi serba usaha

27. Usaha-usaha yang dapat dimasuki wirausaha adalah ...

1. jasa cuci motor
2. pedagang asongan
3. penyalur tenaga kerja ke luar negeri
4. impor alat-alat elektronik
5. ekspor tekstil

Yang termasuk sektor usaha informal adalah ...

- A. 1 dan 2
- B. 2 dan 3
- C. 3 dan 4
- D. 4 dan 5
- E. 5 dan 1

28. Tanggal 30 Juni 2007 diterima piutang dari Fa. Fatah Rp 500.000,00 dan bunga Rp 25.000,00. Transaksi tersebut mengakibatkan perubahan dalam persamaan akuntansi adalah ...

- A. Kas (-) Rp 475.000,00, Utang (-) Rp 500.000,00, Modal (-) Rp 25.000,00
- B. Kas (+) Rp 500.000,00, Utang (-) Rp 475.000,00, Modal (-) Rp 25.000,00
- C. Kas (+) Rp 500.000,00, Piutang (-) Rp 500.000,00
- D. Kas (+) Rp 525.000,00, Piutang (-) Rp 500.000,00, Modal (+) Rp 25.000,00
- E. Kas (-) Rp 525.000,00, Utang (+) Rp 500.000,00, Modal (+) Rp 25.000,00

29. Salah satu fungsi jurnal adalah fungsi historis artinya ...

- A. mencatat semua transaksi untuk mencari laba rugi
- B. mencatat semua kegiatan perusahaan
- C. mencatat menurut urutan tanggal terjadinya transaksi dan kejadian
- D. sebagai jembatan untuk membuat neraca
- E. sebagai penyeimbang antara debit dan kredit

30. Pada tanggal 14 Desember 2007 foto kopi “TERANG” memperoleh order foto kopi dan penjilidan dari SMA Merdeka Jaya dengan perincian sebagai berikut:

Foto kopi Rp 175.000,00
 Penjilidan Rp 10.000,00

Rp 185.000,00

Diterima secara tunai Rp 85.000,00

Kekuranga Rp 100.000,00

Jurnal dari transaksi di atas adalah ...

A.

Tanggal	Keterangan	Ref	Debit	Kredit
14-12-07	Kas		Rp 85.000,00	
	Piutang usaha		Rp 100.000,00	
	Pendapatan Fotokopi			Rp 175.000,00
	Pendapatan penjilidan			Rp 10.000,00

B.

Tanggal	Keterangan	Ref	Debit	Kredit
14-12-07	Pendapatan Fotokopi		Rp 175.000,00	
	Pendapatan penjilidan		Rp 10.000,00	
	Kas			Rp 85.000,00
	Piutang usaha			Rp 100.000,00

C.

Tanggal	Keterangan	Ref	Debit	Kredit
14-12-07	Pendapatan Fotokopi		Rp 100.000,00	
	Piutang usaha		Rp 85.000,00	
	Kas			Rp 175.000,00
	Pendapatan penjilidan			Rp 10.000,00

D.

Tanggal	Keterangan	Ref	Debit	Kredit
14-12-07	Kas		Rp 175.000,00	
	Pendapatan fotokopi		Rp 10.000,00	
	Piutang usaha			Rp 100.000,00
	Pendapatan penjilidan			Rp 85.000,00

E.

Tanggal	Keterangan	Ref	Debit	Kredit
14-12-07	Piutang usaha		Rp 85.000,00	
	Pendapatan penjilidan		Rp 100.000,00	
	Kas			Rp 175.000,00
	Pendapatan fotokopi			Rp 10.000,00

31. Diketahui jurnal umum perusahaan milik Amrin sebagai berikut:

Tanggal	Keterangan	Ref	Debit	Kredit
1-12-2007	Kas Modal Amrin		Rp 2.500.000,00	Rp 2.500.000,00
1-12-2007	Peralatan Kas		Rp 1.500.000,00	Rp 1.500.000,00
1-12-2007	Perlengkapan Kas		Rp 100.000,00	Rp 100.000,00
10-12-2007	Kas Pendapatan		Rp 500.000,00	Rp 500.000,00

Dari jurnal umum di atas, posting ke buku besar kas tiga kolom yang benar adalah ...

A.

Tanggal	Keterangan	Ref	Debit	Kredit	Sisa	
					Debit	Kredit
1-12-2007			Rp 2.500.000,00		Rp 2.500.000,00	
1-12-2007				Rp 1.500.000,00	Rp 1.000.000,00	
1-12-2007				Rp 100.000,00	Rp 900.000,00	
10-12-2007			Rp 500.000,00		Rp 400.000,00	

B.

Tanggal	Keterangan	Ref	Debit	Kredit	Sisa	
					Debit	Kredit
1-12-2007			Rp 2.500.000,00		Rp 2.500.000,00	
1-12-2007			Rp 1.000.000,00	Rp 1.500.000,00	Rp 1.000.000,00	
1-12-2007				Rp 100.000,00	Rp 900.000,00	
10-12-2007			Rp 500.000,00		Rp 1.400.000,00	

C.

Tanggal	Keterangan	Ref	Debit	Kredit	Sisa
1-12-2007			Rp 2.500.000,00		Rp 2.500.000,00
1-12-2007				Rp 1.500.000,00	Rp 1.000.000,00
1-12-2007				Rp 100.000,00	Rp 900.000,00
10-12-2007			Rp 500.000,00		Rp 1.400.000,00

D.

Tanggal	Keterangan	Ref	Debit	Kredit	Sisa
1-12-2007				Rp 500.000,00	Rp 2.500.000,00
1-12-2007			Rp 2.000.000,00	Rp 1.500.000,00	Rp 1.000.000,00
1-12-2007				Rp 100.000,00	Rp 900.000,00
10-12-2007			Rp 500.000,00		Rp 1.400.000,00

E.

Tanggal	Keterangan	Ref	Debit	Kredit	Sisa
1-12-2007			Rp 2.500.000,00	Rp 500.000,00	Rp 2.500.000,00
1-12-2007			Rp 1.000.000,00	Rp 500.000,00	Rp 1.000.000,00
1-12-2007				Rp 100.000,00	Rp 900.000,00
10-12-2007			Rp 500.000,00		Rp 1.400.000,00

32. Pada neraca saldo per 31 Desember 2004 terdapat akun kendaraan sebesar Rp 25.000.000,00 dan akun Akumulasi Penyusutan Kendaraan bersaldo Rp 5.000.000,00 kendaraan tersebut disusutkan sebesar 10% per tahun dari harga beli. Ayat jurnal penyesuaian yang benar adalah ...

- A. Beban penyusutan kendaraan Rp 2.500.000,00
 Akumulasi penyusutan kendaraan Rp 2.500.000,00
- B. Beban penyusutan kendaraan Rp 2.500.000,00
 Kendaraan Rp 2.500.000,00
- C. Beban kendaraan Rp 2.500.000,00
 Akumulasi penyusutan kendaraan Rp 2.500.000,00
- D. Akumulasi penyusutan kendaraan Rp 2.000.000,00
 Beban penyusutan kendaraan Rp 2.000.000,00
- E. Beban penyusutan kendaraan Rp 2.000.000,00
 Akumulasi penyusutan kendaraan Rp 2.000.000,00

33.

HARRY COLLECTION

Kertas Kerja

31 desember 2005

No	Akun Buku Besar	Neraca saldo		Penyesuaian		Neraca Saldo Disesuaikan		Laporan Laba Rugi		Neraca	
		Debit	Kredit	Debit	Kredit	Debit	Kredit	Debit	Kredit	Debit	Kredit
111	Kas	25.000				25.000				25.000	
112	Piutang usaha	8.000				8.000				8.000	
113	Perlengkapan	16.000			2.000	14.000				14.000	
121	Kendaraan	20.000				20.000				20.000	
121.1	Akumulasi penyusutan kendaraan				2.000		2.000				2.000
211	Peralatan dekorasi					20.000				20.000	
122.1	Akumulasi penyusutan peralatan				2.000		2.000				2.000
211	Utang usaha		12.000				12.000				12.000
311	Modal Harry		67.000				67.000				67.000
311.1	Prive hary	5.000				5.000				5.000	
411	Pendapatan jasa		30.000				30.000		30.000		
511	Beban gaji	8.000		3.000		11.000		11.000			
512	Beban iklan	2.000				2.000		2.000			
513	Beban listrik dan telpon	3.000				3.000		3.000			
514	Beban serba serbi	2.000				2.000		2.000			
	Jumlah	109.000	109.000								
116	Piutang bunga			1.000		1.000				1.000	
412	Pendapatan bunga				1.000		1.000		1.000		
515	Beban perlengkapan			2.000		2.000		2.000			
516	Beban penyusutan kendaraan			2.000		2.000		2.000			
517	Beban openusutan peralatan dekorasi			2.000		2.000		2.000			
213	Utang gaji				3.000		3.000				3.000
	Jumlah			10.000	10.000	117.000	117.000	24.000	31.000	93.000	86.000
	Laba						
								31.000	31.000	93.000	93.000

Berdasarkan Kertas Kerja di atas, laba-rugi yang dialami Harry Collection adalah ...

- A. rugi Rp 7.000,00
 B. laba Rp 7.000,00
 C. rugi Rp 17.000,00
 D. laba Rp 17.000,00
 E. laba Rp 24.000,00

34. Berikut ini disajikan sebagian transaksi PD. Andika:
 Tgl 2 Mei 2007 dibeli barang dagang secara tunai dari PD. Mayasari seharga Rp 100.000,00
 Tgl 2 Mei 2007 dijual barang dagang pada Toko ABC sebesar Rp 50.000,00 dengan syarat 2/10, n/30, faktur no. 22
 Tgl 4 Mei 2007 dibeli barang dagang dari PD. Andalas seharga Rp 300.000,00 dengan syarat 3/10, n/30, faktur no. 45
 Tgl 5 Mei 2007 dijual barang dagang secara tunai pada Toko Galak seharga Rp 20.000,00
 Tgl 6 Mei 2007 dibeli barang dagang dari PD. Lokasari seharga Rp 350.000,00 dengan syarat 2/10, n/30, faktur no. 46

Dari transaksi di atas, pencatatan pada jurnal pembelian yang benar adalah ...

Jurnal Pembelian

A.

Tanggal	No Faktur	Akun yang dikredit	Syarat Pembayaran	Ref	Pembelian (D) Utang Dagang (K)
2007					
Mei	2	PD. Mayasari	-		100.000,00
	4	PD. Andalas	3/10, n/10		300.000,00
	6	PD. Lokasari	2/10, n/30		350.000,00

Jurnal Pembelian

B.

Tanggal	No Faktur	Akun yang dikredit	Syarat Pembayaran	Ref	Pembelian (D) Utang Dagang (K)
2007					
Mei	3	PD. Andalas	3/10, n/10		300.000,00
	5	PD. Lokasari	2/10, n/30		350.000,00

Jurnal Pembelian

C.

Tanggal	No Faktur	Akun yang dikredit	Syarat Pembayaran	Ref	Pembelian (D) Utang Dagang (K)
2007					
Mei	4	PD. Andalas	3/10, n/10		300.000,00
	6	PD. Lokasari	2/10, n/30		350.000,00

Jurnal Pembelian

D.

Tanggal	No Faktur	Akun yang dikredit	Syarat Pembayaran	Ref	Pembelian (D) Utang Dagang (K)
2007					
Mei	3	Toko ABC	2/10, n/30		50.000,00
	4	PD. Andalas	3/10, n/10		300.000,00
	6	PD. Lokasari	2/10, n/30		350.000,00

Jurnal Pembelian

E.

Tanggal	No Faktur	Akun yang dikredit	Syarat Pembayaran	Ref	Pembelian (D) Utang Dagang (K)
2007					
Mei	4	PD. Lokasari	3/10, n/10		300.000,00
	6	PD. Andalas	2/10, n/30		350.000,00

35. **Jurnal Pembelian**

Tgl	Rekening Dikredit	Tgl Faktur	Termin	Debit			Kredit
				Pembelian	Perl. kntr	Pralt. kant	Utang dagang
3/2	PT Rajawali			15.000,00			15.000,00
7/2	CV Indah				9.000,00		9.000,00
13/2	Fa. Mitra			7.000,00			7.000,00
19/2	PT Amin			21.000,00		4.000,00	25.000,00
26/2	PT Rajawali			13.000,00	5.000,00		18.000,00
Jumlah				56.000,00	14.000,00	4.000,00	74.000,00

Jika pada awal bulan Februari saldo Buku Besar Pembelian menunjukkan angka debit sebesar Rp 12.000,00, maka pada akhir februari setelah posting dilakukan dari jurnal pembelian saldo Buku Besar Pembelian akan menunjukkan saldo sebesar ...

- A. kredit Rp 44.000,00
 B. debit Rp 56.000,00
 C. debit Rp 68.000,00
 D. debit Rp 84.000,00
 E. debit Rp 86.000,00
36. Berikut ini disajikan sebagian transaksi PD. Abdi dalam bulan Mei 2007:
- Tgl 5 Membeli peralatan secara kredit pada CV. Aman sebesar Rp 4.500.000,00 dengan syarat 2/10, n/30
- Tgl 6 Menjual barang dagangan secara tunai pada Toko ABC seharga Rp 400.000,00
- Tgl 10 Membeli barang dagang secara tunai pada CV. Aman Rp 2.000.000,00
- Tgl 15 Membeli barang dagang pada CV. Norman seharga Rp 6.500.000,00 dengan syarat 2/10, n/30
- Tgl 18 Membayar sebagian utang pada CV. Aman sebesar Rp 1.500.000,00
- Tgl 20 Menjual barang dagang pada Toko ABC seharga Rp 2.500.000,00 dengan syarat 2/10, n/30

Dari transaksi di atas, yang harus dibukukan ke Buku Besar Pembantu Utang adalah ...

- A. transaksi tanggal 5, 6, dan 10
 B. transaksi tanggal 6, 10, dan 18
 C. transaksi tanggal 5, 15, dan 20
 D. transaksi tanggal 5, 15, dan 20
 E. transaksi tanggal 15, 18, dan 20

37. Pada tanggal 31 des 2007, PT Jaya mempunyai data akun berikut ini.

Penjualan	Rp 6.000.000,00
Retur Penjualan	Rp 80.000,00
Pembelian	Rp 1.900.000,00
Biaya angkut pembelian	Rp 140.000,00
Retur Pembelian	Rp 120.000,00
Potongan Pembelian	Rp 100.000,00
Persediaan barang (awal)	Rp 1.200.000,00
Persediaan barang (akhir)	Rp 1.100.000,00

Pada akhir periode data di atas dijurnal penyesuaian berikut ini.

1. Penjualan	Rp 6.000.000,00	-
Harga pokok penjualan	-	Rp 6.000.000,00
2. Harga pokok penjualan	Rp 1.900.000,00	-
Pembelian	-	Rp 1.900.000,00
3. Biaya angkut pembelian	Rp 140.000,00	-
Harga pokok penjualan	-	Rp 140.000,00
4. Retur pembelian	Rp 120.000,00	-
Harga pokok penjualan	-	Rp 120.000,00
5. Harga pokok penjualan	Rp 100.000,00	-
Potongan pembelian	-	Rp 100.000,00
6. Harga pokok penjualan	Rp 1.200.000,00	-
Persediaan barang dagang	-	Rp 1.200.000,00
7. Persediaan Barang dagang	Rp 1.100.000,00	-
Harga pokok penjualan	-	Rp 1.100.000,00

Jurnal Penyesuaian yang benar adalah ...

- A. 1, 2 dan 3
- B. 2, 3 dan 4
- C. 2, 4 dan 5
- D. 4, 5 dan 6
- E. 4, 6 dan 7

38. Perhatikan data-data berikut!

1	Penjualan	Rp 110.700.000,00
2	Retur penjualan	Rp 6.400.000,00
3	Potongan penjualan	Rp 2.200.000,00
4	Persediaan 1/1	Rp 90.000.000,00
5	Pembelian	Rp 20.000.000,00
6	Biaya angkut pembelian	Rp 2.400.000,00
7	Retur pembelian	Rp 3.000.000,00
8	Potongan pembelian	Rp 400.000,00
9	Persediaan 31 Des	Rp 64.000.000,00

Berdasarkan data di atas, maka besarnya harga pokok penjualan adalah ...

- A. Rp 45.000.000,00
- B. Rp 64.000.000,00
- C. Rp 89.000.000,00
- D. Rp 109.000.000,00
- E. Rp 112.400.000,00

39. Berikut ini disajikan data suatu perusahaan dagang yang terdapat pada Kertas Kerja:

Persediaan awal	Rp 50.385.000,00
Persediaan akhir	Rp 27.367.000,00
Penjualan bersih	Rp 62.800.000,00
Beban usaha	Rp 400.000,00
Beban di luar usaha	Rp 250.000,00
Pendapatan di luar usaha	Rp 1.700.000,00
Harga pokok penjualan	Rp 42.600.000,00

Berdasarkan data di atas, berapakah laba bersih perusahaan?

- A. Rp 17.500.000,00
- B. Rp 18.650.000,00
- C. Rp 20.000.000,00
- D. Rp 20.850.000,00
- E. Rp 21.250.000,00

40. Data yang tercantum pada kertas kerja PD. Andalas per 31 Desember 2006:

Penjualan Rp 120.620.000,00

Pendapatan bunga Rp 1.500.000,00

Retur pembelian Rp 2.600.000,00

Berdasarkan data di atas, pencatatan ayat jurnal penutup dengan pendekatan ikhtisar laba/rugi adalah ...

A.

Tanggal		Keterangan	Ref	Debit	Kredit
2006					
Des	31	Penjualan		120.620.000,00	-
		Pendapatan bunga		1.500.000,00	-
		Retur pembelian		2.600.000,00	-
		Ikhtisar laba/rugi		-	124.720.000,00

B.

Tanggal		Keterangan	Ref	Debit	Kredit
2006					
Des	31	Ikhtisar laba/rugi		124.720.000,00	-
		Penjualan		-	120.620.000,00
		Pendapatan bunga		-	1.500.000,00
		Retur pembelian		-	2.600.000,00

C.

Tanggal		Keterangan	Ref	Debit	Kredit
2006					
Des	31	Penjualan		120.620.000,00	-
		Pendapatan bunga		1.500.000,00	-
		Ikhtisar laba/rugi		-	122.120.000,00

D.

Tanggal		Keterangan	Ref	Debit	Kredit
2006					
Des	31	Penjualan		120.620.000,00	-
		Retur Pembelian		2.600.000,00	-
		Ikhtisar laba/rugi		-	123.220.000,00

E.

Tanggal		Keterangan	Ref	Debit	Kredit
2006					
Des	31	Penjualan		120.620.000,00	-
		Retur Pembelian		2.600.000,00	-
		Ikhtisar laba/rugi		-	124.720.000,00
		Pendapatan bunga		-	1.500.000,00