

DOKUMEN NEGARA

SANGAT RAHASIA

# Ujian Akhir Nasional Tahun Pelajaran 2002/2003

SMU/MA

Program Studi IPS



**Paket  
Utama  
(P1)**

**EKONOMI (D11)**

**SELASA, 6 MEI 2003**

**Pukul 07.30 – 09.30**

**DEPARTEMEN PENDIDIKAN NASIONAL**

© Hak Cipta pada Pusat Penilaian Pendidikan – BALITBANG - DEPDIKNAS



**PETUNJUK UMUM**

1. Perhatikan dan ikuti petunjuk pengisian pada lembar jawaban yang disediakan.
2. Periksa dan bacalah soal-soal sebelum Anda menjawabnya.
3. Jumlah soal sebanyak 50 butir, setiap butir soal terdiri dari 5 (lima) pilihan jawaban.
4. Laporkan kepada pengawas ujian kalau terdapat tulisan yang kurang jelas, rusak atau jumlah soal kurang.
5. Mintalah kertas buram kepada pengawas ujian, bila diperlukan.
6. Periksalah pekerjaan Anda sebelum diserahkan kepada pengawas ujian.
7. Tidak diijinkan menggunakan kalkulator, tabel matematika atau alat bantu hitung lainnya.

1. Orang sakit sangat membutuhkan obat berarti obat tersebut termasuk kegunaan benda sesuai dengan ....
  - a. integritas
  - b. bentuk
  - c. tempat
  - d. waktu
  - e. kepemilikan

2. Perhatikan tabel di bawah.

Jumlah Barang (jeruk/ kg)	Jumlah total (TU)	Jumlah batas (MU)
0	0	–
1	5	5
2	9	4
3	12	3
4	12	0
5	10	–2

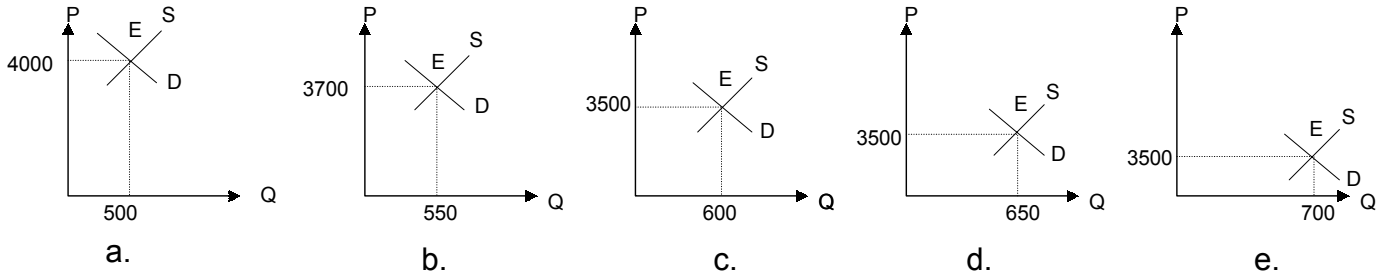
Dari tabel di atas tambahan jumlah barang yang dikonsumsi tidak menambah manfaat pada ....

- a. 4
  - b. 3
  - c. 2
  - d. 1
  - e. 0
3. Membeli secara besar-besaran untuk dijual kembali dalam partai besar kepada pedagang eceran dinamakan ....
    - a. agen
    - b. perantara
    - c. makelar
    - d. multi niaga
    - e. grosir

4. Tabel harga.

Harga	Permintaan	Penawaran
Rp3.000.000,00	800 unit	500 unit
Rp3.200.000,00	700 unit	550 unit
Rp3.500.000,00	600 unit	600 unit
Rp3.700.000,00	500 unit	650 unit
Rp4.000.000,00	400 unit	700 unit

Berdasarkan tabel di atas, harga keseimbangan berada pada grafik ....



5. Perhatikan tabel berikut ini.

Harga	Jumlah yang diminta
Rp8.000.000,00	250 unit
Rp7.000.000,00	300 unit

Berdasarkan tabel di atas, koefisien elastisitas permintaan sebesar ....

- a. 1, 60
- b. 1, 40
- c. 1, 33
- d. 1, 17
- e. 0, 75

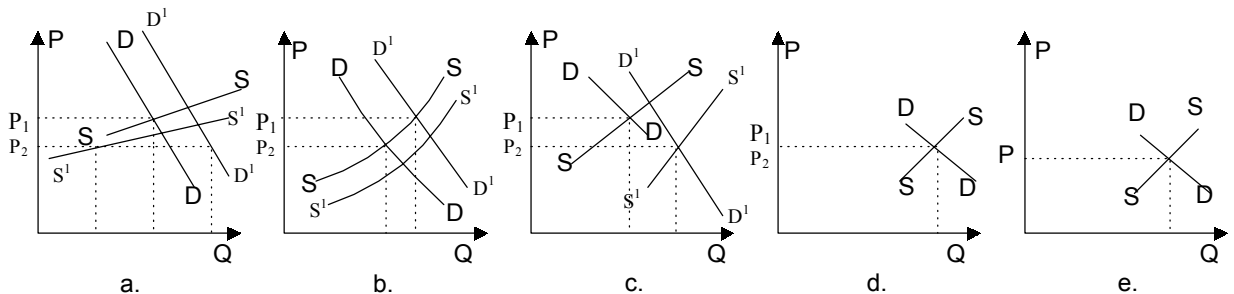
6. Perhatikan tabel.

Q	TR	MR
1	20	10
2	30	10
3	40	10
4	50	10
5	60	10

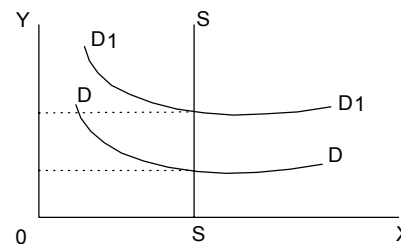
Dari tabel di atas, bentuk kurva AR adalah ....

- a. berbentuk huruf U
- b. berbentuk parabola
- c. tidak beraturan
- d. memotong sumbu datar
- e. sejajar dengan sumbu datar

7. Harga obat "X" pada mulanya seharga Rp.10.000,00 kuantitas yang diperjual belikan di pasar 4000 unit. Selanjutnya, pemerintah menetapkan harga tertinggi pada obat "X" sebesar Rp9.000,00 per unit. Maka kuantitas yang diminta konsumen bertambah menjadi 4.400 dan kuantitas yang ditawarkan berkurang menjadi 3.200. Berdasarkan data di atas, dapat dibuat kurvanya sbb:



8. Kurva di samping menunjukkan ....
- kurva sewa tanah
  - kurva pasar tenaga
  - kurva bunga modal
  - kurva upah
  - kurva laba pengusaha

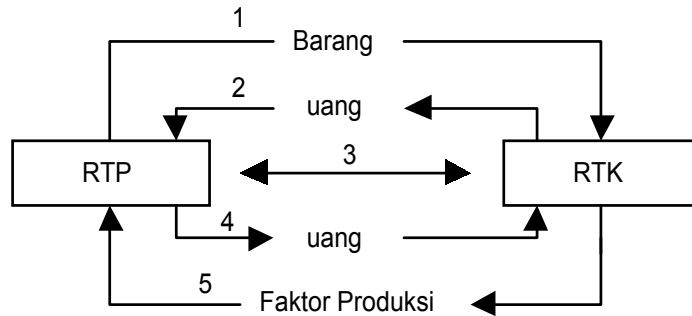


9. Daftar pasar (bursa) dalam kegiatan ekonomi:
- Sebagai sarana melakukan transaksi bisnis yang sehat antara penjual dan pembeli, sehingga tidak ada yang merasa dirugikan.
  - Bagi pemilik dana, dapat membantu orang/badan lain, sekaligus dapat memperoleh keuntungan (bunga) dari dananya yang menganggur
  - Sebagai sarana untuk memperoleh modal yang sehat bagi para pengusaha yang memerlukan tambahan modal
  - Sebagai sarana bagi pemerintah untuk memantau kebutuhan berbagai jenis dan jumlah valuta asing.
  - Sebagai sarana bagi masyarakat luas untuk ikut serta menanamkan modalnya dalam suatu perusahaan.

Yang termasuk fungsi pasar modal (bursa efek) adalah ....

- 1 dan 2
- 1 dan 3
- 2 dan 4
- 3 dan 5
- 4 dan 5

10. Perhatikan bagan arus uang dan arus barang / jasa berikut:



Penerimaan rumah tangga produsen ( RTP ) digambarkan pada nomor ....

- 1
- 2
- 3
- 4
- 5

11. Dibawah ini data yang diperlukan dalam perhitungan pendapatan nasional

Upah	= Rp12.000.000,00	Pendapatan Sewa	= Rp 8.000.000,00
Laba	= Rp 9.000.000,00	Peng. Rumah tangga Swasta	= Rp36.000.000,00
Pengeluaran Pemerintah	= Rp10.000.000,00	Impor	= Rp 5.000.000,00
Pendapatan bunga	= Rp 6.000.000,00	Konsumsi	= Rp25.000.000,00
		Ekspor	= Rp 7.000.000,00

Berdasarkan data di atas besarnya pendapatan nasional berdasarkan metode pengeluaran adalah ...

- Rp 35.000.000,00
- Rp 69.000.000,00
- Rp 73.000.000,00
- Rp104.000.000,00
- Rp108.000.000,00

12. Pendapatan per kapita akan naik apabila ....

- GNP tetap, jumlah penduduk tetap
- GNP turun, jumlah penduduk tetap
- GNP naik, jumlah penduduk tetap
- Kenaikan jumlah penduduk lebih besar dari kenaikan GNP
- Kenaikan GNP lebih kecil kenaikan jumlah penduduk

13. Pak Rudi ingin memiliki uang tunai guna membeli barang-barang kebutuhannya. Keinginan memiliki uang tunai tersebut dinamakan motif ....
- transaksi
  - produksi
  - spekulasi
  - berjaga-jaga
  - konsumtif
14. Berikut ini yang tidak termasuk cara mengatasi inflasi dari kebijakan moneter adalah ....
- menaikkan suku bunga bank
  - pengawasan kredit secara selektif
  - menetapkan cash ratio
  - melakukan operasi pasar terbuka
  - menaikkan pajak
15. Di bawah ini kebaikan dan keburukan kredit:
- meningkatkan produktivitas modal
  - memperlancar arus barang
  - menimbulkan inflasi
  - menimbulkan over produksi
  - meningkatkan pemerataan pendapatan
- Yang termasuk kebaikan kredit adalah ....
- 1, 2, dan 3
  - 1, 2, dan 4
  - 1, 2, dan 5
  - 1, 3, dan 5
  - 1, 4, dan 5
16. Cara pembayaran pajak harus jelas dan tertentu sehingga ada kekuatan hukum dalam pelaksanaannya, ini merupakan asas ...
- keadilan
  - manfaat
  - ekonomi
  - kepastian
  - kemudahan

17. Berdasarkan UU No.17 tahun 2000 tentang pajak penghasilan, tarif pajak penghasilan (PPh) atas penghasilan kena pajak (PKP) sebagai berikut:

No	Penghasilan Kena Pajak	Tarif Pajak
1	sampai dengan Rp25 juta	5%
2	di atas Rp 25 juta – Rp 50 juta	10%
3	di atas Rp 50 juta – Rp100 juta	15%
4	di atas Rp100 juta – Rp200 juta	25%
5	di atas Rp200 juta	35%

Apabila PKP Pak Harun tahun 2001 sebesar Rp120.000.000,00, maka pajak yang terhutang adalah ....

- Rp 6.750.000,00
  - Rp16.250.000,00
  - Rp18.000.000,00
  - Rp19.750.000,00
  - Rp30.000.000,00
18. Mengatasi inflasi dengan jalan menjual surat berharga seperti obligasi di pasar modal disebut kebijakan ....
- diskonto
  - pasar terbuka
  - cash ratio
  - kuota
  - tarif
19. Kebaikan dan keburukan sistem ekonomi.

A	B	C
1. mudah melaksanakan pemerataan 2. hak perorangan diakui seluas-luasnya 3. belum mengenal pembagian kerja	1. mematikan inisiatif individu 2. kreasi, inisiatif masyarakat berkembang 3. jarang terjadi konjungtur karena kegiatan ekonomi telah direncanakan	1. kerusakan lingkungan dapat dihindarkan 2. sering terjadi monopoli 3. kegiatan ekonomi efektif dan efisien

Kebaikan sistem ekonomi pasar adalah ....

- A<sub>1</sub>, B<sub>2</sub>, dan C<sub>2</sub>
  - A<sub>1</sub>, B<sub>3</sub>, dan C<sub>1</sub>
  - A<sub>2</sub>, B<sub>2</sub>, dan C<sub>3</sub>
  - A<sub>2</sub>, C<sub>1</sub>, dan C<sub>3</sub>
  - B<sub>1</sub>, B<sub>3</sub>, dan C<sub>3</sub>
20. Kegiatan mengatur penggunaan sumber daya dalam rangka menambah kegunaan barang atau jasa, dalam bidang manajemen merupakan kegiatan ....
- pemasaran
  - keuangan
  - personalia
  - akuntansi
  - produksi

21. Tabel hasil produksi pertahun.

Negara	Produksi Pertanian	Produksi elektronik
Indonesia	20.000 ton	5.000 unit
Jepang	17.500 ton	6.750 unit

Dari tabel di atas, negara yang mendapat keuntungan mutlak adalah ....

- Indonesia di bidang produksi pertanian
  - Indonesia di bidang produksi elektronik
  - Jepang di bidang produksi pertanian
  - Indonesia dan Jepang di bidang produksi pertanian
  - Indonesia dan Jepang di bidang produksi elektronik
22. Cara pembayaran internasional yang menggunakan wesel adalah ....
- open payment*
  - open account*
  - cable order*
  - commercial bills of exchange*
  - letter of credit*
23. Kegiatan ekspor dan impor negara kita dengan negara asing dicatat dalam neraca ....
- pembayaran
  - perdagangan
  - moneter
  - modal
  - jasa
24. Diketahui fungsi penawaran dan permintaan  $Q_s = 2 P_s - 30$  dan  $Q_d = 200 - 4 P_d$ . Jika pemerintah mengenakan pajak sebesar Rp5,00 per unit. Keseimbangan pasar sesudah pajak adalah ....
- ( 38, 40 )
  - ( 39, 40 )
  - ( 40, 39 )
  - ( 40, 40 )
  - ( 44, 39 )
25. Fungsi harga  $P = 16 - 2 Q$ , maka fungsi TR adalah ...
- $6Q - 2Q$
  - $16Q - 2Q^2$
  - $16 - 2Q$
  - $16Q - 2 Q$
  - $6 Q + 2Q^2$



26. Harga rata-rata kebutuhan pokok tahun 1990 dan tahun 1997:

Nama Barang	Tahun 1990		Tahun 1997	
	Po	Qo	Pn	Qn
Beras	750	30	1250	32
Gula Pasir	1400	25	1600	135
Gula Merah	1000	40	1200	44

Dari data tersebut indeks Harga Laspeyres adalah ....

- 130,50
  - 129,72
  - 128,72
  - 127,18
  - 125,05
27. Tabel pendapatan karyawan ( X ) dan konsumsi karyawan ( Y ).

No	X	Y	XY	X <sup>2</sup>	Y <sup>2</sup>
1	4	9	36	16	81
2	3	6	18	9	36
3	6	11	66	36	121
4	7	14	98	49	196
$\Sigma$	20	40	218	110	434

Berdasarkan data di atas, besarnya koefisien korelasi antara pendapatan dengan konsumsi karyawan adalah ....

- 0,89
  - 0,90
  - 0,91
  - 0,98
  - 0,99
28. Diketahui persamaan regresi  $y = 24,06 + 8,12 x$ , dimana x adalah biaya promosi dan y adalah volume penjualan. Apabila volume penjualan sebesar 200, maka besarnya biaya promosi yang harus disediakan adalah ....
- 21,67
  - 22,67
  - 23,67
  - 24,67
  - 25,67

## 29. Tabel Penjualan Sepatu (dalam 1000 unit)

Tahun	Jumlah Produk
1994	75,5
1995	80,5
1996	110,5
1997	115,5
1998	95,5
1999	112,5
2000	120,5
2001	125,5

Jika persamaan trend linier dengan metode setengah rata-rata  $Y = 95,5 + 4,5 X$ , dapat diramalkan penjualan sepatu tahun 2005 adalah ....

- 149,50 unit
  - 142,50 unit
  - 140,50 unit
  - 131,50 unit
  - 99,90 unit
30. Di bawah ini adalah contoh penggunaan analisis deret waktu dalam ekonomi, kecuali peramalan ....
- produksi
  - jumlah penjualan
  - harga barang
  - penjualan
  - nasib seseorang
31. Pertumbuhan dan pembangunan ekonomi:
- peningkatan produksi dan pendapatan
  - perubahan komposisi produksi
  - meningkatnya GNP
  - adanya distribusi pendapatan semakin merata
  - adanya peningkatan kesejahteraan masyarakat

Pembangunan ekonomi ditandai dengan ....

- 1, 2, dan 3
- 1, 2, dan 4
- 2, 3, dan 4
- 2, 4, dan 5
- 3, 4, dan 5

## 32. Tabel modal badan usaha.

Nomor	A	B	C
1	simpanan pokok	laba tak dibagi	modal statuter
2	modal saham	hibah	modal portopolio
3	modal Amir	modal yang disetor	cadangan

Yang merupakan modal koperasi adalah ....

- A<sub>1</sub>, B<sub>1</sub>, dan C<sub>1</sub>
  - A<sub>1</sub>, B<sub>2</sub>, dan C<sub>2</sub>
  - A<sub>1</sub>, B<sub>2</sub>, dan C<sub>3</sub>
  - A<sub>2</sub>, B<sub>2</sub>, dan C<sub>3</sub>
  - A<sub>3</sub>, B<sub>3</sub>, dan C<sub>3</sub>
33. Perusahaan merupakan kesatuan ekonomi yang terpisah dari pihak yang berkepentingan dengan sumber-sumber perusahaan. Pemisahan itu sebagai pertimbangan dalam mempertanggung jawabkan keuntungan kepada pihak-pihak yang berkepentingan.

Pernyataan di atas merupakan ....

- konsep kesinambungan
- metode aktual
- konsep kesatuan usaha
- prinsip materialistis
- prinsip konservatif

## 34.

KWITANSI NO : 0421	
Sudah terima dari	: PD. Serba Ada
Banyak uang	: Lima juta enam ratus ribu rupiah
Untuk pembayaran	: pelunasan faktur no. 025 tgl 2 juli 02
Bandung, 10 juli 2002	
Terbilang :	Rp5.600.000,00
	<u>PD. Galunggung</u>

Bukti transaksi di atas oleh "PD. Serba Ada" dijurnal. ....

- |    |                |             |             |
|----|----------------|-------------|-------------|
| a. | Kas            | Rp5.600.000 | -           |
|    | Piutang usaha  | -           | Rp5.600.000 |
| b. | Kas            | Rp5.600.000 | -           |
|    | PD. Galunggung | -           | Rp5.600.000 |
| c. | PD. Galunggung | Rp5.600.000 | -           |
|    | Kas            | -           | Rp5.600.000 |
| d. | PD. Serba ada  | Rp5.600.000 | -           |
|    | Utang usaha    | -           | Rp5.600.000 |
| e. | Utang usaha    | Rp5.600.000 | -           |
|    | Kas            | -           | Rp5.600.000 |

35. Pada neraca saldo perkiraan perlengkapan (D) Rp200.000,00 pada akhir periode, perlengkapan yang tersedia sebesar Rp75.000,00 jurnal penyesuaian adalah ....
- Beban perlengkapan Rp75.000,00  
    Perlengkapan Rp75.000,00
  - Perlengkapan Rp75.000,00  
    Beban perlengkapan Rp75.000,00
  - Beban perlengkapan Rp200.000,00  
    Perlengkapan Rp200.000,00
  - Perlengkapan Rp125.000,00  
    Beban perlengkapan Rp125.000,00
  - Beban perlengkapan Rp125.000,00  
    Perlengkapan Rp125.000,00
36. Di neraca sisa terdapat beban gaji Rp45.000.000,00 di neraca sisa setelah penutupan terdapat utang gaji Rp800.000,00. Jurnal pembalik yang dibuat adalah ....
- Beban gaji Rp 800.000,00 -  
    Utang gaji - Rp 800.000,00
  - Utang gaji Rp 800.000,00 -  
    Beban gaji - Rp 800.000,00
  - Utang gaji Rp44.200.000,00 -  
    Beban gaji - Rp44.200.000,00
  - Beban gaji Rp44.200.000,00 -  
    Utang gaji - Rp44.200.000,00
  - Ikhtisar rugi-laba Rp44.200.000,00 -  
    Beban gaji - Rp44.200.000,00
37. Sebagian transaksi yang dilakukan oleh PD Sri Rezeki pada bulan Juli 2000.
- Juli 5, Menerima piutang sebesar Rp4.000.000,00 yang merupakan hasil penjualan barang 5 hari yang lalu pada CV manunggal dengan syarat 2/10, n/30.
- Juli 7, Diterima cek atas pelunasan wesel Rp1.000.000,00
- Juli 10, Dijual peralatan toko bekas secara tunai Rp750.000,00

Pencatatan transaksi di atas dalam jurnal khusus penerimaan kas yang benar adalah ....

Tgl	Uraian	Ref	Debet				Serba-serbi		
			Kas	Potongan Penjualan	Piutang dagang	Penjualan	Ref	Akun	Jumlah
a. 5	CV Manunggal		4.000.000	-	4.000.000	-		-	-
b. 5	CV Manunggal		3.920.000	80.000	-	4.000.000		-	-
c. 7	Pelunasan Wesel		1.000.000	-	1.000.000	-		-	-
d. 7	Pelunasan Wesel		1.000.000	-	-	-		wesel tagih	1.000.000
e. 10	penjualan		750.000	-	-	750.00		-	-

38. Jumlah pada jurnal penjualan menunjukkan total sebesar Rp800.000,00, jumlah tersebut akan diposting senilai Rp800.000,00 masing-masing ....
- debet penjualan dan kredit kas
  - debet piutang dan kredit penjualan
  - debet kas dan kredit penjualan
  - debet penjualan dan kredit piutang dagang
  - debet piutang dagang dan kredit retur pembelian

## 39. Rekapitulasi buku besar utama dan pembantu:

Kas	Rp 5.000.000,00
Persediaan barang dagangan	Rp 21.000.000,00
Modal	Rp 25.000.000,00
Prive	Rp 1.000.000,00
Penjualan	Rp 122.250.000,00
Pembelian	Rp 82.000.000,00
Firma Sejahtera	Rp 15.000.000,00
Toko Melati	Rp 28.000.000,00

Dari rekapitulasi di atas, neraca saldo yang dibuat ....

- Debit : kas, persediaan barang dagangan, prive  
Kredit : modal, penjualan, pembelian
- Debit : kas, persediaan barang dagangan, pembelian  
Kredit : modal, prive, penjualan
- Debit : kas, persediaan barang dagangan, prive, penjualan  
Kredit : modal, pembelian, Firma Sejahtera
- Debit : kas, persediaan barang dagangan, prive, pembelian  
Kredit : modal, penjualan
- Debit : kas, persediaan barang dagangan, Toko Melati  
Kredit : modal, prive, penjualan

40.

Perusahaan Dagang Sri Rejeki  
Neraca Saldo Per 31 Desember 2000

Nama Perkiraan	Jumlah
Persediaan barang dagangan	Rp3.000.000,00
Pembelian	Rp2.000.000,00
Penjualan	Rp2.700.000,00
Retur penjualan	Rp 200.000,00
Retur pembelian dan potongan harga	Rp 500.000,00
Biaya angkut pembeli	Rp 300.000,00

Keterangan untuk penyesuaian.

Persediaan barang dagangan per 31 Desember 2000 Rp3.500.000,00 jurnal penyesuaian yang benar adalah ....

a.	Penjualan	Rp2.700.000,00	-
	Retur penjualan	Rp 200.000,00	-
	HPP	-	Rp2.900.000,00
b.	HPP	Rp2.900.000,00	-
	Penjualan	-	Rp2.700.000,00
	Retur penjualan	-	Rp 200.000,00
c.	HPP	Rp1.300.000,00	-
	Persediaan barang dagang	Rp3.500.000,00	-
	Retur pembelian	Rp 500.000,00	-
	Biaya angkut pembelian	-	Rp 300.000,00
	Pembelian	-	Rp2.000.000,00
	Persediaan barang dagang	-	Rp3.000.000,00
d.	Biaya angkut pembelian	Rp 300.000,00	-
	Pembelian	Rp2.000.000,00	-
	HPP	-	Rp1.300.000,00
	Persediaan barang dagang	-	Rp 500.000,00
	Retur pembelian	-	Rp 500.000,00
e.	HPP	Rp2.300.000,00	-
	Pembelian	-	Rp2.000.000,00
	Biaya angkut pembelian	-	Rp 300.000,00

## 41. Kertas Kerja Sebagian.

No	Nama Akun	Neraca saldo		Penyesuaian		NS. Disesuaikan	
		D	K	D	K	D	K
1	Persediaan barang dagang	9.500.000	-	12.000.000	9.500.000	2.500.000	-
2	Iklan dibayar dimuka	6.000.000	-	-	4.000.000	2.000.000	-
3	pembelian	40.000.000	-	-	-	40.000.000	-
4	beban iklan	-	-	4.000.000	-	-	4.000.000
5	Ikhtisar R / L	-	-	9.000.000	12.000.000	9.500.000	12.000.000

Pencatatan pada kolom neraca saldo disesuaikan pada kertas kerja di atas, yang tepat adalah ....

- 1, 2, dan 3
- 1, 3, dan 5
- 2, 3, dan 4
- 2, 3, dan 5
- 3, 4, dan 5

## 42. Diketahui:

Persediaan barang dagang awal 40 unit, harga per unit : Rp 350,00  
 Pembelian 100 unit, harga per unit : Rp 400,00  
 Retur pembelian : Rp 7.500,00  
 Biaya angkut pembelian : Rp10.000,00  
 Pada tanggal 31 Des 2000 persediaan barang 50 unit, harga per unit : Rp 400,00

Harga pokok penjualan barang per unit adalah ....

- Rp36.500,00
- Rp40.500,00
- Rp51.500,00
- Rp56.500,00
- Rp64.500,00

## 43. Pada tanggal 12 April 2000 diterima pelunasan dari anggota sebesar Rp200.000,00 dan bunga Rp4.000,00 transaksi tersebut dicatat dalam jurnal umum sebagai berikut ....

a.	Kas	Rp200.000,00	-
	Piutang anggota	-	Rp200.000,00
b.	Kas	Rp204.000,00	-
	Piutang anggota	-	Rp204.000,00
c.	Piutang anggota	Rp204.000,00	-
	Simpanan pokok	-	Rp204.000,00
d.	Kas	Rp204.000,00	-
	Piutang anggota	-	Rp200.000,00
	Pendapatan bunga	-	Rp 4.000,00
e.	Piutang anggota	Rp200.000,00	-
	Pendapatan bunga	-	Rp 4.000,00
	Simpanan pokok	-	Rp204.000,00

44. Saldo akun Koperasi Manunggal Sejahtera pada tgl 31 Des 2002 seperti berikut ini:
- |                   |                |                                |                |
|-------------------|----------------|--------------------------------|----------------|
| Simpanan Pokok    | : Rp 6.000.000 | Penjualan                      | : Rp98.000.000 |
| Simpanan Wajib    | : Rp15.000.000 | Peralatan                      | : Rp 4.000.000 |
| Simpanan Sukarela | : Rp 4.000.000 | Persediaan                     | : Rp17.000.000 |
| Piutang dagang    | : Rp12.000.000 | Utang Persediaan barang dagang | : Rp15.000.000 |
| Pembelian         | : Rp71.000.000 | Beban gaji                     | : Rp 9.000.000 |

Jumlah harta adalah ....

- Rp 18.000.000,00
  - Rp 33.000.000,00
  - Rp 43.000.000,00
  - Rp 89.000.000,00
  - Rp104.000.000,00
45. Sebagian data koperasi Abadi Yogyakarta tahun 2001 sebagai berikut:
- Jasa simpanan Rp 600.000,00
  - Jasa penjualan Rp 750.000,00
  - Simpanan pokok Rp 500.000,00
  - Simpanan wajib Rp2.000.000,00
  - Jumlah penjualan Rp3.000.000,00
  - Simpanan Nindya Rp 150.000,00
  - Penjualan Nindya Rp 225.000,00

Bagian SHU yang diterima Nindya adalah ....

- Rp36.000,00
  - Rp43.500,00
  - Rp56.250,00
  - Rp74.350,00
  - Rp92.250,00
46. Modal sebesar Rp1.000.000,00 dibungakan dengan bunga majemuk 6% setahun. Hitunglah nilai akhir modal jika dibungakan selama 5 tahun 3 bulan ....
- 1.255.666,96
  - 1.332.520,98
  - 1.223.000,99
  - 1.562.333,81
  - 1.358.298,96
47. Utang sebesar Rp800.000,00 akan dilunasi dengan cara anuitas Rp100.000,00 per semester dengan suku bunga 6% per semester. Besarnya angsuran ke-2 adalah ....
- Rp100.000,00
  - Rp 55.120,00
  - Rp 52.000,00
  - Rp 48.000,00
  - Rp 44.880,00



48. Sebuah mesin harga perolehannya Rp120.000.000,00, nilai residu Rp10.000.000,00, dan umur ekonomisnya 10 tahun. Maka nilai penyusutan tiap tahun bila menggunakan metode garis lurus adalah ....
- Rp 1.000.000,00
  - Rp10.000.000,00
  - Rp11.000.000,00
  - Rp12.000.000,00
  - Rp13.000.000,00
49. Andika membeli mobil dengan harga Rp68.000.000,00 ditaksir bisa mencapai umur ekonomis 6 tahun dengan nilai residu Rp5.000.000,00 . Penyusutan dilakukan dengan metode jumlah angka tahun. Nilai buku mobil pada akhir tahun ketiga ....
- Rp56.000.000,00
  - Rp54.000.000,00
  - Rp45.000.000,00
  - Rp23.000.000,00
  - Rp18.000.000,00
50. Perhatikan data berikut.
- |                       |                |
|-----------------------|----------------|
| Harga perolehan mesin | Rp5.000.000,00 |
| Nilai residu          | Rp 500.000,00  |
| Produksi total        | 500.000 unit   |
| Produksi tahun ke 1   | 100.000 unit   |

Dengan menggunakan metode unit produksi, besarnya penyusutan adalah ....

- Rp100.000,00
- Rp400.000,00
- Rp500.000,00
- Rp700.000,00
- Rp900.000,00