

DOKUMEN NEGARA

SANGAT RAHASIA

Ujian Akhir Nasional Tahun Pelajaran 2002/2003

SMU/MA

Program Studi IPS



**Paket
Utama
(P3)**

EKONOMI (D11)

SELASA, 6 MEI 2003

Pukul 07.30 – 09.30

DEPARTEMEN PENDIDIKAN NASIONAL



PETUNJUK UMUM

1. Perhatikan dan ikuti petunjuk pengisian pada lembar jawaban yang disediakan.
2. Periksa dan bacalah soal-soal sebelum Anda menjawabnya.
3. Jumlah soal sebanyak 50 butir, setiap butir soal terdiri dari 5 (lima) pilihan jawaban.
4. Laporkan kepada pengawas ujian kalau terdapat tulisan yang kurang jelas, rusak atau jumlah soal kurang.
5. Mintalah kertas buram kepada pengawas ujian, bila diperlukan.
6. Periksalah pekerjaan Anda sebelum diserahkan kepada pengawas ujian.
7. Tidak diijinkan menggunakan kalkulator, tabel matematika atau alat bantu hitung lainnya.

1. Pasir di sungai, dipindahkan ke toko bangunan, hal ini disebut
 - a. *time utility*
 - b. *service utility*
 - c. *form utility*
 - d. *place utility*
 - e. *element utility*

2. Perhatikan tabel berikut !

Jumlah barang yang dikonsumsi	Guna total	Guna batas
0	0	
1	5	5
2	9	4
3	12	3
4	14	2
5	15	1
6	15	0
7	14	- 1

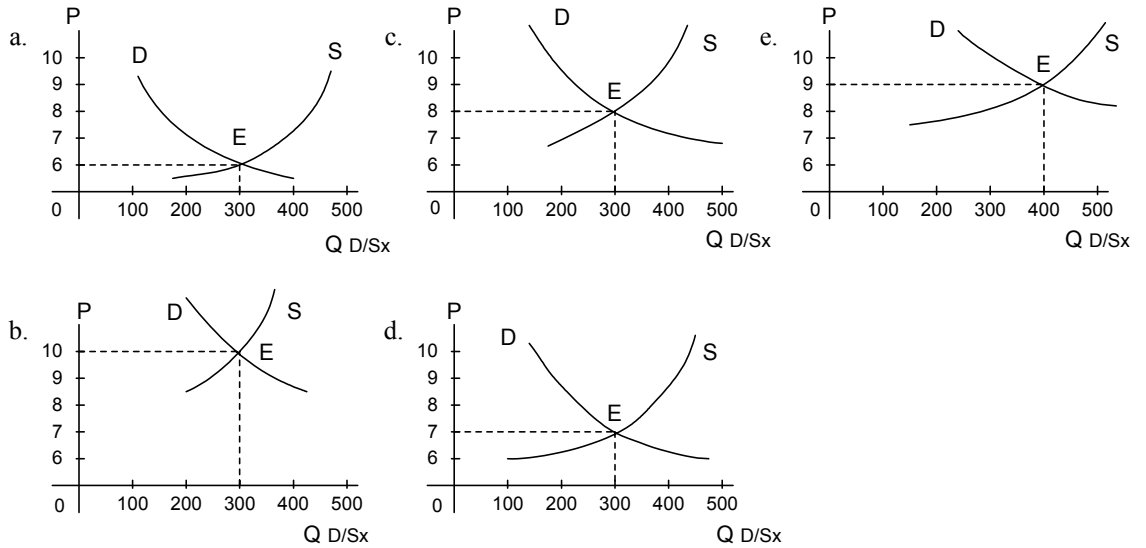
Dari tabel di atas, tambahan jumlah barang yang dikonsumsi tidak menambah manfaat pada

- a. 3
 - b. 4
 - c. 5
 - d. 6
 - e. 7
3. Berikut ini adalah kegiatan distribusi:
 1. Ibu Titik membuat kue, kemudian dijual pada konsumen
 2. Ibu Hasan membeli sayur-sayuran dari petani kemudian dijual di pasar
 3. Pak Tatang membeli buah-buahan dari pasar induk, digunakan untuk pesta
 4. Pak Marno membeli gula dari pabrik gula kemudian dijual di tokonya
 Kegiatan di atas, yang termasuk jenis saluran distribusi satu tingkat adalah
 - a. 1 dan 2
 - b. 1 dan 3
 - c. 1 dan 4
 - d. 2 dan 3
 - e. 2 dan 4

4. Perhatikan tabel berikut.

Harga (dalam ribuan)	Jumlah Permintaan	Jumlah Penawaran
Rp10,00	100	500
Rp 9,00	200	400
Rp 8,00	300	300
Rp 7,00	400	200
Rp 6,00	500	100

Berdasarkan tabel di atas, kurva harga keseimbangan yang benar adalah



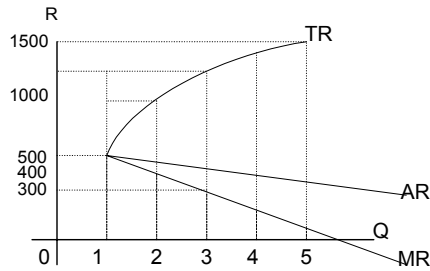
5. Berikut harga dan permintaan suatu barang di pasar Beringharjo Yogyakarta:

Harga (Rp)	Permintaan (Kg)
2.500	4.000
2.750	3.500

Besarnya elastisitas permintaan barang tersebut adalah

- a. 1,00
- b. 1,25
- c. 1,50
- d. 1,75
- e. 2,00

6.



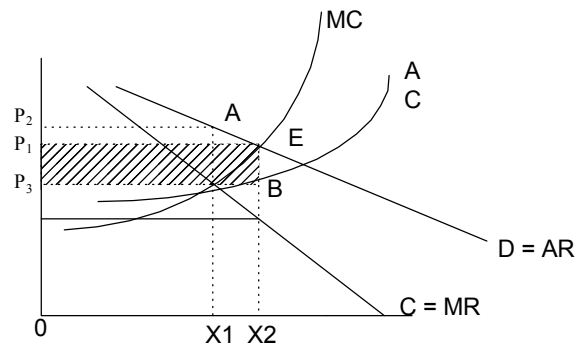
Dari grafik di atas penerimaan rata-rata pada tingkat produksi ke-3 adalah

- a. Rp 300,00
- b. Rp 400,00
- c. Rp 500,00
- d. Rp1.200,00
- e. Rp1.500,00

7. Perhatikan grafik di samping.

Posisi harga sebelum penetapan harga oleh pemerintah OP_2 , jumlah yang dihasilkan OX_1 , kemudian pemerintah menetapkan harga OP_1 , maka

- a. Jumlah produksi menjadi OX_2
- b. Kurva permintaan = D
- c. Kurva $MR = C$
- d. Keuntungan P_1, P_2, A dan E
- e. Keuntungan P_1, P_3, B dan E



8. Penawaran atas faktor produksi alam bersifat inelastis sempurna sebab

- a. pemakaian alam bebas
- b. permintaan bertambah, penawaran bertambah
- c. permintaan berkurang, penawaran berkurang
- d. permintaan naik atau turun, penawaran tetap
- e. permintaan akan sebanding dengan harga

9. Fungsi pasar / bursa:

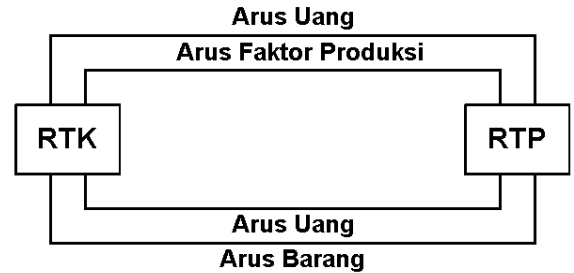
1. meningkatkan pendapatan produsen
2. penyedia informasi mengenai lowongan kerja
3. meningkatkan keahlian eksportir
4. memperlancar kegiatan ekspor / impor
5. sebagai tempat pertukaran valuta asing
6. sarana pemerataan pendapatan

Yang merupakan fungsi pasar valuta asing adalah

- a. 1 dan 2
- b. 2 dan 3
- c. 3 dan 4
- d. 4 dan 5
- e. 5 dan 6

10. Berdasarkan bagan di samping, arus barang akan bergerak dari

- Arus uang ke arus barang
- RTK ke RTP
- Arus barang ke arus uang
- RTP ke RTK
- Arus uang ke konsumen



11. Jika GNP suatu negara Rp10.400.000.000,00 penyusutan Rp350.000.000,00 pajak tidak langsung Rp25.000.000,00 pajak langsung Rp30.000.000,00. Besarnya NNI adalah

- Rp 55.000.000,00
- Rp 425.000.000,00
- Rp10.025.000.000,00
- Rp10.325.000.000,00
- Rp10.370.000.000,00

12. Hubungan antara pendapatan nasional, jumlah penduduk dan pendapatan perkapita yang paling tepat dari pernyataan berikut ini adalah

- pendapatan perkapita menggambarkan tingkat kemakmuran penduduk
- pendapatan perkapita tergantung dari pendapatan nasional dengan jumlah penduduk
- besar kecilnya pendapatan perkapita tergantung dari besar kecilnya pendapatan nasional
- pendapatan nasional dan pendapatan perkapita menggambarkan kemakmuran penduduk
- pendapatan perkapita adalah bagian dari pendapatan nasional

13. Pak Rahmat selalu memiliki simpanan uang tunai/saldo rekening dalam jumlah yang cukup banyak, dengan tujuan apabila ada yang menawarkan barang dengan harga murah dapat dibeli, motif ini disebut

- transaksi
- spekulasi
- berjaga-jaga
- konservatif
- efektif

14. Berikut kebijakan ekonomi pemerintah:
1. Menurunkan pajak
 2. Menaikan tingkat bunga
 3. Menjual surat-surat berharga
 4. Memperbesar pengeluaran pemerintah
 5. Pemberian kredit secara selektif

Kebijakan pemerintah untuk mengatasi inflasi adalah

- a. 1, 2, dan 3
 - b. 1, 4, dan 5
 - c. 2, 3, dan 4
 - d. 2, 3, dan 5
 - e. 3, 4, dan 5
15. Salah satu kelemahan dari adanya kredit bagi debitur adalah
- a. memperlancar arus barang
 - b. meningkatkan produksi
 - c. mengurangi beban utang
 - d. menimbulkan spekulasi
 - e. mengurangi kelancaran modal
16. Melalui pemungutan pajak, pemerintah berkewajiban membangun prasarana seperti jalan raya, jembatan, gedung sekolah. Pajak di atas menurut W. J Langen menganut azas
- a. manfaat
 - b. kesamaan
 - c. daya pikul
 - d. kesejahteraan
 - e. ekonomis
17. Tarif pajak penghasilan berdasarkan Undang-Undang Republik Indonesia nomor 17 Tahun 2000 sebagai berikut:

Penghasilan Kena Pajak	Tarif pajak
Sampai dengan Rp25.000.000	5%
di atas Rp 25.000.000,00 sampai dengan Rp 50.000.000,00	10%
di atas Rp. 50.000.000,00 sampai dengan Rp.100.000.000,00	15%
di atas Rp100.000.000,00 sampai dengan Rp.200.000.000,00	25%
di atas Rp200.000.000,00	35%

Pada tahun 2001, Witri mempunyai penghasilan kena pajak (PKP) Rp250.000.000,00, besarnya pajak terutang adalah

- a. Rp.87.500.000,00
- b. Rp.62.500.000,00
- c. Rp.53.750.000,00
- d. Rp.25.000.000,00
- e. Rp.17.500.000,00

18. Dalam rangka menaikkan gaji PNS pemerintah mengambil kebijakan anggaran pengeluaran lebih besar dari penerimaan anggaran. Kebijakan ini disebut
- anggaran defisit
 - anggaran surplus
 - anggaran berimbang
 - anggaran aktif
 - anggaran pasif

19. Berikut kebaikan dan keburukan sistem ekonomi liberal :

- Pengusaha lemah tersingkir
- Adanya konsentrasi modal
- Terdapat efisiensi produksi
- Menumbuhkan kreatifitas
- Kualitas barang tinggi

Yang merupakan kebaikan sistem ekonomi liberal adalah

- 1, 2, dan 3
 - 1, 4, dan 5
 - 2, 3, dan 4
 - 2, 3, dan 5
 - 3, 4, dan 5
20. Berikut ini proses kegiatan mengatur agar dapat menambah dan menghasilkan barang dan jasa disebut
- manajemen produksi
 - manajemen pemasaran
 - manajemen keuangan
 - manajemen administrasi
 - manajemen personalia

21. Gambaran hasil kerja satu orang per hari ditunjukkan dalam tabel berikut:

Negara	Hasil / Jenis barang		Dasar tukar dalam negeri
	Kain	Padi	
India	20 m	40 kg	1 m = 2 kg Padi
Indonesia	60 m	48 kg	1 m = 0,8 kg Padi

Berdasarkan data di atas, jika terjadi perdagangan internasional masing-masing negara akan mendapat keuntungan relatif

- Indonesia 1,2 kg padi dan India 1,5 m kain
- Indonesia 2,5 kg padi dan India 2,5 m kain
- Indonesia 1,2 m kain dan India 0,75 kg padi
- Indonesia 1,5 kg dan India 1,2 m kain
- Indonesia dan India 1,2 m kain

22. Pembayaran internasional dengan membuat surat perintah kepada bank untuk membayar sejumlah uang kepada seseorang, merupakan cara pembayaran dengan
- cable order*
 - open account*
 - advance payment*
 - letter of credit*
 - cheque*
23. Kegiatan perdagangan antara negara yang menyangkut ekspor dan impor dicatat pada neraca
- jasa
 - modal
 - moneter
 - perdagangan
 - pembayaran
24. Fungsi permintaan $P = 15 - Q$ dan fungsi penawaran $P = 3 + 0,5 Q$. Pemerintah mengenakan pajak setiap unit $t = 3$, maka harga dan jumlah keseimbangan pasar sesudah pajak adalah
- (4, 11)
 - (6, 6)
 - (6, 9)
 - (8, 7)
 - (10, 5)
25. Fungsi penawaran ditunjukkan $Q = 2P - 5$. Apabila produsen menawarkan harga Rp55,00 per unit dan ternyata semuanya terjual, maka TR adalah
- Rp2.750
 - Rp3.300
 - Rp5.500
 - Rp5.775
 - Rp6.325

26. Perhatikan tabel berikut!

Nama barang	Harga		Kuantitas	
	Th 2000	Th 2001	Th 2000	Th 2001
Susu / kg	10.000	12.000	100	120
Mentega / kg	5.000	6.000	75	100
Keju	8.000	10.000	60	80

Jika tahun 2000 sebagai tahun dasar, maka angka indeks menurut Laspeyres adalah

- 82,14%
- 82,44%
- 121,29%
- 122,29%
- 127,51%

27. Tabel biaya promosi dan nilai penjualan.

Tahun	X	Y
1993	1	2
1994	2	4
1995	4	5
1996	5	7
1997	7	8
1998	9	10
1999	10	12
2000	12	14

Data tabel di atas, besarnya koefisien korelasi menurut PEARSON adalah

- $r_{xy} = 0,95$
 - $r_{xy} = 0,96$
 - $r_{xy} = 0,97$
 - $r_{xy} = 0,98$
 - $r_{xy} = 0,99$
28. Diketahui persamaan Regresi $\hat{Y} = 1,02 + 5,14X$ di mana Y = biaya variabel dan X = output, jika barang yang dihasilkan 100 unit, maka besarnya biaya variabel per unit adalah
- 515,02
 - 107,14
 - 102,51
 - 52,42
 - 6,16

- 29.

Tabel Hasil Penjualan Bersih
Perusahaan Pakaian " BAGUS " Tahun 1992 – 2001

Tahun	1992	1993	1994	1995	1996	1997	1998	1999	2000	2001
Hasil penjualan	4	6	7	8	10	12	14	16	18	20

Dari data di atas, besarnya trend sekuler linier dengan metode setengah rata-rata adalah

- $y = -7 + 1,8 x$
 - $y = 7 - 1,8 x$
 - $y = 7 + 1,8 x$
 - $y = 149,6 + 1,8 x$
 - $y = -149,6 + 1,8 x$
30. Dalam ekonomi, analisis deret waktu tidak bermanfaat untuk memproyeksikan
- kegiatan produksi
 - kegiatan konsumsi
 - kegiatan penyediaan
 - kegiatan penyediaan (stock) barang
 - perubahan harga barang

31. Di bawah ini merupakan perbedaan pertumbuhan dan pembangunan ekonomi adalah
- pembangunan ekonomi menuntut adanya kenaikan GNP sedangkan pertumbuhan ekonomi merupakan proses kenaikan GNP.
 - pertumbuhan ekonomi adanya pemerataan pendapatan sedangkan pembangunan ekonomi adanya kenaikan pendapatan perkapita.
 - pembangunan ekonomi tidak menuntut terjadinya perubahan struktur ekonomi sedangkan pertumbuhan ekonomi harus terjadi perubahan.
 - pembangunan ekonomi merupakan dampak dari pertumbuhan ekonomi suatu negara.
 - pertumbuhan ekonomi sekedar adanya kenaikan GNP sedangkan pembangunan ekonomi merupakan suatu proses kenaikan pendapatan nasional riil.

32. Matriks ciri-ciri koperasi dan badan usaha lain.

A	B
1. Adanya simpanan pokok	1. Memperoleh SHU
2. Adanya saham	2. Bertujuan mencari laba
3. Memperoleh deviden	3. Kekuasaan tertinggi pada rapat anggota

Berdasarkan matriks di atas, yang merupakan ciri-ciri koperasi adalah

- A1, A2, dan B3
 - A1, B1, dan B3
 - A2, A3, dan B2
 - A3, B1, dan B3
 - A3, A2, dan B3
33. Sebuah gedung dibeli tunai dengan harga Rp300.000.000,00 dengan bea balik nama dan bea notaris Rp25.000.000,00 dan sebuah lagi seharga Rp200.000.000,00 bea notaris Rp14.500.000,00 dan biaya bank Rp500.000,00 dibiayai sepenuhnya dengan kredit bank.

Berdasarkan Standar Akuntansi keuangan, nilai perolehan gedung adalah

- Rp200.000.000,00
- Rp300.000.000,00
- Rp500.000.000,00
- Rp525.000.000,00
- Rp540.000.000,00

34. Perhatikan tabel berikut.

U D MAJU TERUS		
FAKTUR : 001 / 25 Juli 2001		
Kepada Biro jasa "Andi"		
Jenis/satuan	Jenis barang	Harga
	Mesin ketik Royal	Rp400.000,00
	Disket Fuji	Rp 30.000,00
	Jumlah	Rp430.000,00

Dari bukti transaksi di atas, oleh Biro Jasa "Andi" dijurnal

a.	Peralatan	Rp 30.000,00	-
	Perlengkapan	Rp400.000,00	-
	Kas	-	Rp430.000,00
b.	Peralatan	Rp400.000,00	-
	Perlengkapan	Rp 30.000,00	-
	Kas	-	Rp430.000,00
c.	Peralatan	Rp 30.000,00	-
	Perlengkapan	Rp400.000,00	-
	Utang dagang	-	Rp430.000,00
d.	Peralatan	Rp400.000,00	-
	Perlengkapan	Rp 30.000,00	-
	Utang dagang	-	Rp430.000,00
e.	Utang dagang	Rp430.000,00	-
	Kas	-	Rp430.000,00

35. Pada neraca saldo per 31 Desember 2000, akun sewa dibayar di muka menunjukkan Rp1.800.000,00 untuk 1 tahun mulai tanggal 1 Oktober 2000. Transaksi tersebut dicatat dalam jurnal Penyesuaian sebagai berikut:

a.	Sewa dibayar dimuka	Rp 450.000,00	-
	Beban sewa	-	Rp 450.000,00
b.	Beban sewa	Rp 450.000,00	-
	Sewa dibayar dimuka	-	Rp 450.000,00
c.	Beban sewa	Rp 450.000,00	-
	Utang sewa	-	Rp 450.000,00
d.	Sewa dibayar dimuka	Rp1.350.000,00	-
	Kas	-	Rp1.350.000,00
e.	Beban sewa	Rp1.350.000,00	-
	Sewa dibayar dimuka	-	Rp1.350.000,00

36. Bengkel motor “Karya Apik” dalam neraca saldo per 31 Desember 1999 antara lain memuat perkiraan-perkiraan berikut:

No	Nama Akun	Debet	Kredit
103	Asuransi dibayar dimuka	Rp1.200.000,00	-
502	Biaya gaji	Rp 400.000,00	-

Keterangan per 31 Desember 1999:

- a. Premi asuransi dibayar 1 November 1999 untuk 1 tahun
- b. Gaji karyawan bulan Desember yang belum dibayar Rp200.000,00

Dari data dan keterangan di atas, jurnal pembalik yang diperlukan yaitu

a.	Beban gaji	Rp200.000,00	-
	Utang gaji	-	Rp200.000,00
b.	Beban asuransi	Rp200.000,00	-
	Asuransi dibayar dimuka	-	Rp200.000,00
c.	Utang gaji	Rp200.000,00	-
	Beban gaji	-	Rp200.000,00
d.	Asuransi dibayar dimuka	Rp200.000,00	-
	Beban asuransi	-	Rp200.000,00
e.	Beban asuransi	Rp200.000,00	-
	Asuransi dibayar dimuka	-	Rp200.000,00

37. Berikut ini transaksi UD makmur:

1. Dijual barang dagangan secara kredit Rp500.000,00
2. Dijual tunai barang dagangan Rp1.000.000,00
3. Dibeli barang dagangan dengan kredit Rp400.000,00
4. Dibeli tunai barang dagangan Rp600.000,00
5. Penerimaan pinjaman dari Bank Rp5.000.000,00
6. Membayar utang Rp100.000,00, beserta bunga Rp3.000,00

Dari transaksi di atas yang dicatat dalam jurnal penerimaan Kas adalah

- a. 1 dan 2
- b. 1 dan 5
- c. 2 dan 5
- d. 3 dan 4
- e. 5 dan 6

38. Rekapitulasi jurnal pengeluaran kas adalah sbb:
1. Pembelian (D) Rp6.000.000,00
 2. Utang dagang (K) Rp4.000.000,00
 3. Serba-serbi (D) Rp 50.000,00
 4. Kas (K) Rp9.850.000,00
 5. Potongan pembelian (K) Rp 200.000,00

Rekapitulasi yang benar adalah

- a. 1, 2 dan 3
 - b. 1, 3 dan 4
 - c. 1, 4 dan 5
 - d. 2, 3 dan 4
 - e. 3, 4 dan 5
39. Di bawah ini rekapitulasi buku besar pembantu dari PD Murah.

CV. Jaya	Tn. Bali
31/12 Rp5.000.000,-	31/12 Rp5.800.000,-
Tn. Fadli	Tk. Makmur
31/12 Rp6.000.000,-	31/12 Rp2.900.000,-
Tk. Abadi	Tn. Danang
31/12 Rp2.000.000,-	31/12 Rp1.500.000,-

Dari rekapitulasi di atas, pencatatan yang benar dalam buku besar adalah

- a. Utang dagang Rp 6.900.000,00
- b. Utang dagang Rp 9.400.000,00
- c. Utang dagang Rp10.400.000,00
- d. Piutang dagang Rp16.800.000,00
- e. Piutang dagang Rp18.300.000,00

40. Pada tanggal 31 desember 2001 diperoleh data dari perusahaan dagang Istana Yogyakarta bahwa : Persediaan barang dagang Rp7.500.000,00. Jurnal penyesuaian transaksi tersebut adalah

a.	Kas	Rp7.500.000,00	
	Persediaan barang dagang		Rp7.500.000,00
b.	Persediaan barang dagang	Rp7.500.000,00	
	Kas		Rp7.500.000,00
c.	Persediaan barang dagang	Rp7.500.000,00	
	Pembelian		Rp7.500.000,00
d.	Persediaan barang dagang	Rp7.500.000,00	
	Ikhtisar rugi laba		Rp7.500.000,00
e.	Ikhtisar rugi laba	Rp7.500.000,00	
	Persediaan barang dagang		Rp7.500.000,00

41. Perhatikan tabel berikut.

No	AKUN	N. SISA		PENYESUAIAN		NSD	
		D	K	D	K	D	K
1	Pers. Brg. Perlengkapan	15.000	-	18.000	15.000	15.000	-
2	Akun. Penyesuaian	1.500	-	-	800	700	-
3	Gedung	-	4.000	-	500	-	4500
4	Beban gaji	8.500	-	500	-	8.000	-
5	Pajak Penghasilan	1.850	-	150	-	2.000	-

Penyelesaian kertas kerja sebagian sampai NSD yang benar adalah

- 1, 2, dan 3
 - 1, 3, dan 5
 - 2, 3, dan 4
 - 2, 3, dan 5
 - 3, 4, dan 5
42. Perkiraan-perkiraan sebagai berikut:

- Persediaan barang dagang awal	Rp 900.000,00
- Pembelian	Rp3.400.000,00
- Transport pembelian	Rp 60.000,00
- Retur pembelian	Rp 200.000,00
- Potongan pembelian	Rp 40.000,00

Keterangan:

Pada tanggal 31 Desember persediaan barang sebesar Rp1.100.000,00.

Besarnya HPP (Harga pokok penjualan)

- Rp3.020.000,00
- Rp3.220.000,00
- Rp3.460.000,00
- RP4.120.000,00
- Rp5.220.000,00

43. Pada bulan Januari, Koperasi Bakti Mulya menerima simpanan dari para anggota sbb:

No	Nama	Simpanan pokok	Simpanan Wajib	Jumlah
1.	Harun	Rp100.000,00	-	Rp100.000,00
2.	Rini	Rp100.000,00	Rp20.000,00	Rp120.000,00
3.	Rasyid	-	Rp30.000,00	Rp 30.000,00
		Rp200.000,00	Rp50.000,00	Rp250.000,00

Transaksi tersebut dicatat dalam jurnal

a.	Kas	Rp250.000,00	-
	Simpanan anggota	-	Rp250.000,00
b.	Kas	Rp250.000,00	-
	Simpanan pokok	-	Rp200.000,00
	Simpanan wajib	-	Rp 50.000,00
c.	Kas	Rp250.000,00	-
	Modal anggota	-	Rp250.000,00
d.	Kas	Rp250.000,00	-
	Modal Harun	-	Rp100.000,00
	Modal Rini	-	Rp120.000,00
	Modal Rasyid	-	Rp 30.000,00
e.	Simpanan pokok	Rp250.000,00	-
	Simpanan wajib	Rp250.000,00	-
	Modal anggota	-	Rp500.000,00

44. Saldo akun Koperasi Manunggal Sejahtera tgl 31 Des 2002 sebagai berikut :

Simpanan Pokok	: Rp 6.000.000,00	Penjualan	: Rp98.000.000,00
Simpanan Wajib	: Rp15.000.000,00	Peralatan	: Rp 4.000.000,00
Simpanan Sukarela	: Rp 4.000.000,00	Persediaan barang dagang	: Rp17.000.000,00
Piutang dagang	: Rp12.000.000,00	Utang dagang	: Rp15.000.000,00
Pembelian	: Rp71.000.000,00	Beban gaji	: Rp 9.000.000,00

Jumlah harta adalah

- Rp 18.000.000,00
- Rp 33.000.000,00
- Rp 43.000.000,00
- Rp 89.000.000,00
- Rp104.000.000,00

45. Koperasi Sejahtera akhir tahun buku 2001 memperoleh SHU Rp4.100.000,00 dialokasikan untuk jasa pinjaman 15%, jasa pembelian 20%, jasa modal 25%, dan data lain:
- Simpanan pokok Rp20.000.000,00
 - Simpanan wajib Rp 5.000.000,00
 - Simpanan sukarela Rp25.000.000,00
 - Penjualan Rp40.000.000,00
 - Piutang anggota Rp10.000.000,00

Aditya seorang anggota koperasi mempunyai data sebagai berikut :

- Simpanan pokok Rp 100.000,00
- Simpanan wajib Rp 120.000,00
- Jumlah pembelian di koperasi Rp 500.000,00
- Jumlah pinjaman di koperasi Rp1.000.000,00

Berdasarkan data di atas, SHU yang diperoleh Aditya adalah

- a. Rp 70.750,00
 - b. Rp 76.260,00
 - c. Rp 80.770,00
 - d. Rp 86.510,00
 - e. Rp101.270,00
46. Tanggal 18 September 2002, Tinoto menarik sebuah wesel berbunga 15% setahun dengan nominal Rp10.000.000,00. Pada tanggal jatuh tempo wesel tersebut dilunasi sebesar Rp10.200.000,00, maka tanggal jatuh tempo wesel adalah
- a. 3 November 2002
 - b. 4 November 2002
 - c. 5 November 2002
 - d. 6 November 2002
 - e. 7 November 2002
47. Suatu modal sebesar Rp2.400.000,00 dipinjam dari bank dengan suku bunga 2% per bulan, dan akan dilunaskan dalam 8 anuitas bulanan. Pembayaran akan dilakukan sebulan setelah uang diterima

Daftar anuitas

n	2%
6	0.17852581
7	0.15451196
8	0.13650980

Besarnya anuitas adalah

- a. Rp370.828,70
- b. Rp327.623,52
- c. Rp294.037,06
- d. Rp 10.183,60
- e. Rp 8.569,24

48. Harga perolehan sebuah mesin Rp150.000.000,00 taksiran umur ekonomis 10 tahun, nilai residu Rp5.000.000,00 . Besarnya nilai buku pada tahun ke-4 dengan metode garis lurus adalah
- Rp58.000.000,00
 - Rp62.000.000,00
 - Rp87.000.000,00
 - Rp92.000.000,00
 - Rp93.000.000,00
49. Bapak Edi pada tanggal 5 Mei 2001 membeli sebuah peralatan kantor seharga Rp25.000.000,00, taksiran umur ekonomis 8 tahun, dan nilai residu Rp2.000.000,00. Besarnya nilai penyusutan tahun 2003 dengan metode jumlah angka tahun adalah
- Rp1.703.703,70
 - Rp2.981.481,48
 - Rp3.407.407,40
 - Rp3.500.000,00
 - Rp4.046.296,30
50. Sebuah mesin seharga Rp12.000.000,00 akan mempunyai nilai sisa Rp3.000.000,00 dengan kapasitas produksi selama umur ekonomis sebanyak 250.000 unit. Jika pada akhir tahun ke-3 menghasilkan 63.000 unit maka beban penyusutan adalah
- Rp1.250.000,00
 - Rp2.268.000,00
 - Rp3.276.000,00
 - Rp3.571.428,57
 - Rp3.780.000,00