

**DINAS PENDIDIKAN
SMP NEGERI 3 LAWANG
UJIAN SEKOLAH TULIS
TAHUN PELAJARAN 2007/2008**

Mata Pelajaran : IPS
Kelas : IX (sembilan)
Hari, tanggal : Rabu, 21 Mei 2008
Waktu : 07.00 – 09.00 WIB. (120 menit)

PETUNJUK UMUM:

1. Tulis nama, kelas, nomor peserta, Anda pada lembar jawab.
2. Arsirlah atau hitamkan huruf A, B, C, dan D yang menurut Anda merupakan jawaban yang paling tepat.
3. Gunakan pensil 2B, dan penghapus karet yang baik.
4. Apabila ingin mengganti jawaban hapuslah jawaban tersebut dengan karet penghapus dan arsir/ hitamkan jawaban yang benar.

I. PILIHLAH SALAH SATU JAWABAN A, B, C, ATAU, D YANG PALING BENAR!

1. Pengertian Peta dalam geografi adalah....
 - a. gambaran permukaan bumi yang dibuat dalam bentuk buku
 - b. gambaran permukaan bumi yang dilengkapi simbol
 - c. gambaran permukaan bumi secara konvensional pada bidang datar dengan skala dan simbol tertentu
 - d. gambaran permukaan bumi yang jelas
2. Secara geografis Indonesia terletak diantara 2 samudra, yaitu....
 - a. samudra Pasifik dan samudra Atlantik
 - b. samudra Pasifik dan samudra Hindia
 - c. samudra Arktik dan samudra Hindia
 - d. samudra Atlantik dan samudra Hindia
3. Usaha-usaha yang dilakukan untuk memperkecil arus urbanisasi antara lain sebagai berikut, kecuali....
 - a. membangun jaringan listrik sampai ke pedesaan
 - b. memperpendek jarak desa dengan kota
 - c. desentralisasi industri sampai ke daerah-daerah
 - d. pengembangan industri kecil di pedesaan
4. Pembangunan industri yang berkembang pesat telah menimbulkan kerusakan pada lingkungan karena...
 - a. kebutuhan semakin meningkat
 - b. pengambilan sumber daya alam semakin besar
 - c. jumlah penduduk bertambah besar
 - d. kemiskinan di beberapa Negara meningkat
5. Suatu penemuan unsur kebudayaan baru baik berupa alat atau gagasan yang diciptakan oleh seorang individu ataupun serangkaian individu dalam suatu masyarakat disebut...
 - a. inovasi
 - b. invention
 - c. discovery
 - d. extention
6. Dasar laut yang mencuat dan memisahkan antara perairan yang satu dengan perairan yang lainnya disebut....
 - a. lubuk laut
 - b. palung laut
 - c. gunung laut
 - d. ambang laut
7. Negara Thailand sering juga disebut sebagai Negara Gajah Putih karena...
 - a. di negara Thailand banyak gajah putihnya
 - b. gajah putih dipandang sebagai hewan keramat
 - c. hasil ternak dinegara Thailand adalah gajah putih
 - d. gajah putih merupakan sumber tenaga pengangkut

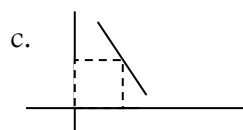
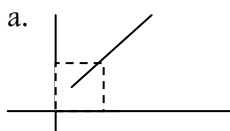
8. Upaya Negara Singapura untuk mengatasi kepadatan penduduknya ialah....
 a. transmigrasi dan industrialisasi
 b. industrialisasi dan modernisasi
 c. pembangunan rumah susun dan program KB
 d. modernisasi dan pembangunan rumah susun
9. Penduduk asli Negara Australia adalah suku bangsa....
 a. Aborigin b. Pidgin c. Maori d. Esqimo
10. Benua yang seluruh daratannya terletak dibelahan bumi bagian selatan yaitu...
 a. Asia b. Eropa c. Amerika d. Australia
11. Antara benua Australia dengan benua Afrika dipisahkan oleh samudra....
 a. Hindia b. Atlantik c. Psifik d. Australia
12. Benua Asia dan benua Eropa dipisahkan oleh pegunungan
 a. Ural b. Himalaya c. Arakayoma d. Hindustan
13. Salah satu factor yang dipergunakan untuk menentukan Negara berkembang atau Negara maju adalah....
 a. historis b. ekonomi c. geografis d. politis
14. Negara-negara berkembang di dunia sebagian besar menempati wilayah benua...
 a. Asia, Afrika dan Australia c. Australia, Afrika, dan Eropa
 b. Afrika, Australia, dan Amerika d. Afrika, Asia, dan Amerika Latin
15. Pengaruh bertemunya arus Oyashio dan Kuroshio yang terdapat di Laut Jepang pada bulan Maret-April adalah....
 a. laut Jepang kaya ikan c. terjadinya badai tsunami
 b. lautnya berombak besar d. pelayaran di laut Jepang terhenti

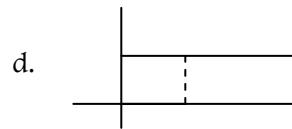
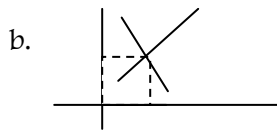
16. Tabel kebutuhan menurut sifat:

I	II	III	IV
Makanan Pakaian Olahraga	Menyanyi Rekreasi Olahraga	Baca koran Nonton TV Les musik	Istirahat Rekreasi Makanan

Pada tabel di atas kebutuhan rohani ditunjukkan pada kolom

- a. I b. II c. III d. IV
17. Apabila tidak ada minyak tanah kita mengganti dengan gas elpiji. Maka gas elpiji disebut barang...
 a. konsumsi b. produksi c. komplementer d. substitusi
18. Di bawah ini yang termasuk usaha kegiatan produksi adalah....
 a. membuat lemari c. menambal ban sepeda
 b. menjual barang d. menyalurkan barang
19. Sarana untuk promosi adalah salah satu
 a. pengertian pasar c. ciri pasar abstrak
 b. syarat pasar d. fungsi pasar
20. Kurya harga keseimbangan ditunjukkan oleh gambar....





21. Perhatikan potongan-potongan dalam pembelian di bawah ini.....
- | | |
|----------------|----------|
| 1. Tara | 4. Tunai |
| 2. Rafraksi | 5. Harga |
| 3. Ekstra tara | 6. Rabat |
- Yang merupakan potongan berat adalah....
- | | | | |
|----------------|----------------|---------------|----------------|
| a. 1, 2, dan 3 | b. 1, 2, dan 4 | c. 2, 4 dan 6 | d. 4, 5, dan 6 |
|----------------|----------------|---------------|----------------|
22. Orang atau badan yang membayar pajak disebut....
- | | |
|----------------|---------|
| a. objek pajak | c. PTKP |
| b. wajib pajak | d. PKP |
23. Uang yang beredar di masyarakat sebagai alat pembayaran yang sah disebut.....
- | | |
|----------------|---------------|
| a. uang kartal | c. uang sah |
| b. uang giral | d. uang resmi |
24. Pada awalnya pengertian uang adalah benda perantara.....
- | | |
|-----------------------------------|---------------------------------|
| a. untuk mendorong semangat kerja | c. untuk mempermudah pertukaran |
| b. untuk membentuk kekayaan | d. untuk melunasi utang |
25. Pada suatu mata uang tertulis Rp. 50.000,00 berarti....
- | | |
|-------------------------------------|-------------------------------------|
| a. nilai intrinsiknya Rp. 50.000,00 | c. nilai eksternalnya Rp. 50.000,00 |
| b. nilai nominalnya Rp. 50.000,00 | d., nilai riilnya Rp. 50.000,00 |
26. Bank yang mengatur, menjaga, dan memelihara kestabilan nilai rupiah serta mendorong kelancaran produksi dan pembangunan adalah....
- | | |
|----------------------------|-----------------|
| a. Bank Umum | c. Bank Sentral |
| b. Bank Perkreditan Rakyat | d. Bank Pasar |
27. Lembaga keuangan Bukan Bank antara lain:
1. Koperasi Simpan Pinjam
 2. Pegadaian
 3. Perumnas
 4. Dana Pensiun
- Dari keempat lembaga tersebut yang diberi wewenang untuk menghimpun dan menyalurkan dana kepada masyarakat adalah nomor....
- | | |
|------------|------------|
| a. 1 dan 2 | c. 1 dan 4 |
| b. 1 dan 3 | d. 2 dan 3 |
28. Indonesia bekerjasama dengan Jepang dalam hal peningkatan produksi barang "x". Kerjasama tersebut dinamakan kerjasama....
- | | |
|--------------|-----------------|
| a. bilateral | c. multilateral |
| b. regional | d. antar Negara |
29. Politik Dumping adalah politik menjual barang produksi di luar negeri lebih.....daripada dalam negeri
- | | |
|-----------|--------------------|
| a. tinggi | c. dipertimbangkan |
| b. mahal | d. murah |
30. OPEC merupakan kerjasama Negara-negara
- | | |
|----------------------|------------------------------------|
| a. penghasil minyak | c. pengatur kebutuhan minyak dunia |
| b. pengekspor minyak | d. konsumen minyak |

31. Sumber sejarah yang mengungkapkan adanya kerajaan Kutai dan Majapahit di Kalimantan Timur adalah....
- prasasti Canggal
 - prasasti Yupa
 - prasasti Ciaruteun
 - prasasti Mantyasih
32. Kerajaan Islam pertama di Pulau Jawa yang berdiri setelah runtuhnya kerajaan Majapahit adalah....
- kerajaan Samudra Pasai
 - kerajaan Aceh
 - kerajaan Demak
 - kerajaan Mataram
33. Faktor ekonomi yang mendorong bangsa-bangsa Barat / Eropa berlayar ke Asia adalah...
- keinginan untuk mendapatkan rempah-rempah dengan harga murah
 - mencari kekayaan dengan menguasai daerah lain
 - tugas suci menyebarkan agama Nasrani
 - ditemukan alat kompas yang dapat mendukung kelancaran pelayaran
34. Sebab khusus Perang Diponegoro (1825 – 1830) adalah....
- Belanda menyerang kediaman Diponegoro di Selarong
 - Belanda turut campur dalam pemerintahan ke Kerajaan Yogyakarta
 - Belanda melanggar perjanjian Ganti
 - Belanda membuat jalan dan memasang patok melintasi makam leluhur Diponegoro tanpa meminta ijin terlebih dahulu
35. Kebijakan politik yang diberlakukan Belanda di Indonesia yang berdampak terhadap timbulnya golongan terpelajar adalah.....
- politik Etis
 - politik Pintu Terbuka
 - politik Klonial Liberal
 - politik Dumping
36. Sebab khusus Perang Dunia I (1914-1918) adalah...
- terjadinya pertentangan antar Negara di Eropa
 - adanya politik mencari kawan
 - terbunuhnya putra mahkota Austria, Franz Ferdinand di Sarajevo
 - adanya perlombaan persenjataan
37. Untuk menarik simpati rakyat Indonesia agar mau kerjasama dengan Jepang, maka dibentuk organisai.....
- PETA
 - HEIHO
 - PUTERA
 - Gerakan Tiga A
38. Sidang PPKI tanggal 18 Agustus 1945 mempunyai arti penting bagi kehidupan Negara RI, karena berhasil....
- menyusun cabinet pertama
 - membentuk suatu system pemerintahan
 - mengesahkan berlakunya UUD 1945
 - menetapkan wilayah Republik Indonesia
39. Latar belakang dari peristiwa Rengasdengklok adalah....
- para pemuda takut para pemimpin Indonesia terpengaruh oleh Jepang
 - para pemuda benci terhadap Sukarno dan M. Hatta
 - tindakan tegas dari golongan muda terhadap golongan tua
 - Rengasdengklok merupakan tempat paling aman untuk persembunyian
40. Agresi militer Belanda I (21 Juli 1947) merupakan pelanggaran yang dilakukan Belanda terhadap perjanjian....
- Linggarjati
 - Renville
 - Roem Royen
 - KMB
41. Salah satu isi Dekrit Presien 5 Juli 1959 yang dikeluarkan oleh Presiden Soekarno adalah....
- membubarkan Dewan
 - menyusun UUD baru
 - menyusun kabinet baru
 - menetapkan berlakunya UUDS 1950

42. Pada tanggal 25 April 1950, Dr Somoukil memproklamasikan berdirinya....
 a. Negara Sumatra Timur
 b. Republik Maluku Selatan
 c. Negara Islam Indonesia
 d. Negara Indonesia Timur
43. Perhatikan pernyataan di bawah ini:
 1. keluar dari anggota PBB
 2. masuk menjadi anggota ASEAN
 3. masuk kelompok NATO
 4. konfrontasi dengan Malaysia
 5. membentuk poros Jakarta – Peking
 Dari pernyataan di atas, tindakan yang menyebabkan Indonesia terkucil dari pergaulan internasional adalah nomor....
 a. 1, 2, dan 4 b. 1, 2, dan 5 c. 1, 4, dan 5 d. 2, 3 dan 5
44. Perhatikan pernyataan di bawah ini
 1. Gagalkan pembentukan Negara Papua
 2. Penyerahan Irian Barat paling lambat 1 Mei 1963
 3. Kibarkan Sang Merah Putih di Irian Barat
 4. Bersiap-siap untuk mobilisasi umum
 5. Di Irian harus diadakan Pepera
 Isi pokok Trikora terdapat pada pernyataan nomor....
 a. 1, 3 dan 4 b. 1, 3, dan 5 c. 2, 3, dan 4 d. 2, 4, dan 5
45. Konfrensi Tingkat Tinggi Gerakan Non Blok yang pertama diselenggarakan di kota....
 a. Den-Hag c. Jakarta
 b. Kairo d. Beograd

II. Jawablah pertanyaan di bawah ini!

46. Jelaskan 4 faktor yang mendorong terjadinya perubahan sosial budaya!
47. Apakah yang dimaksud dengan benua?
48. Sebutkan 3 ciri –ciri Negara maju!
49. Apa yang dimaksud dengan kerjasama Regional? Berilah contohnya!
50. Sebutkan 2 konfrensi pendahuluan yang diadakan sebelum diselenggarakan Konfrensi Asia Afrika (18-25 April 1955) di Bandung!