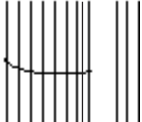



# Soal Latihan Ujian Semester 1 SD Kelas 1 – Matematika

**a) ayo kerjakan soal soal di bawah ini**

1  banyak lidi di samping ada ....

2  urutan dari yang paling banyak adalah


3  $8 + 7 = \dots$

4 ira mempunyai 3 buku  
diberi ayah 4 buku  
buku ira sekarang berjumlah ....

5 hasil dari  $8 + 2 + 3 = \dots$

6 hasil  $12 - 3 = \dots$

7 ima mempunyai 8 buah rambutan  
diberikan siti 3 rambutan  
diberikan umi 2 rambutan  
rambutan ima tinggal ... buah

8  gambar jam di samping menunjukkan pukul ....

9 ari berangkat sekolah ... hari  
isilah pagi siang atau malam

10 cuci tangan sebentar cuci pakaian ....

11 isilah dengan pendek atau panjang



....

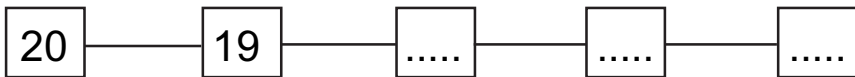


....

**b ayo jawab soal soal di bawah ini**

**21**  berapa jumlah apel di samping ....


**22** lengkapilah urutan bilangan berikut ini




**23**  $3 + 6 + 8 = \dots$

**24** ada 9 kupu kupu hinggap di bunga  
2 kupu kupu kemudian terbang  
sisa kupu kupu yang hinggap di bunga itu ....

**25** berapakah hasil dari  $16 - 3 - 2 = \dots$

**26**  menunjukkan jam berapakah di samping .....

**27**  buatlah gambar jarum jam agar menunjukkan pukul 8

**28** antara gosok gigi dan mandi manakah yang lebih lama

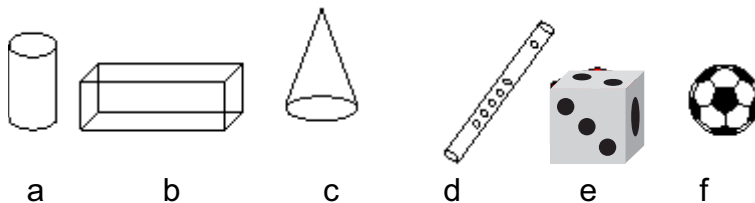


- 29 antara papan tulis dan penggaris manakah yang lebih pendek



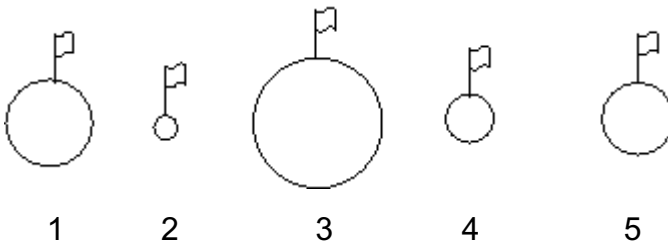
- 30 sekarang hari kamis kemarin hari ....
- 31 sekarang bulan mei bulan depan ....
- 32 ari tidur mulai pukul 3 bangun pukul 5 berapa jam ari tidur ....
- 33 budi belajar selama 2 jam jika budi mulai belajar pukul 7 pukul berapa budi selesai belajar ....

34



sebutkan benda yang berbentuk tabung dengan menuliskan hurufnya

35



urutkan benda di atas mulai dari terkecil dengan cara menuliskan nomornya