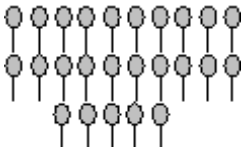


**Soal Latihan Ujian Semester 2  
SD Kelas 1 – Matematika**

a) ayo kerjakan soal soal di bawah ini

1)  jumlah batang korek api di samping ada ....

2) lambang bilangan dari dua puluh tiga adalah ....

3) nama lambang bilangan dari 35 adalah ....

4) (28) — (30) — (27) — (31) — (29) — (32)

urutan bilangan dari terkecil adalah ....

5)  $34 = \dots$  puluhan  $\dots$  satuan

6)  $4$  puluhan +  $6$  satuan =  $40 + \dots = \dots$

7)  $24 + 5 = \dots$

8)  $35$   
 $\underline{\quad 3}$  +

.....

9)  $42 = \dots + \dots$

$6 = \underline{\hspace{2cm} \dots}$  +  
=  $\dots + \dots$   
=  $\dots$

10)  $20 + 40 = \dots$

11)  $37 + 20 = \dots$

12)  $22 + 7 + 3 = \dots$

13)  $19 - 3 = \dots$

14)  $27$   
 $\underline{\quad 4}$  -  
.....

15)  $48 = \dots + \dots$   
 $5 = \underline{\hspace{2cm} \dots \hspace{2cm}} -$   
 $= \dots + \dots$   
 $= \dots$

16)  $60 - 20 = \dots$

17)  $74$   
 $\underline{20} -$   
 $\dots$

18)  $83 + 5 = 5 + \dots$

19)  $21 + 13 + 4 = 21 + (13 + \dots)$

20)  $25 + (12 + 8) = 25 + \dots$

21) ada 12 gelas dan 24 piring  
berapa jumlah gelas dan piring

22) ayah menebang 39 batang bambu  
hari ini dijual 23 batang  
berapa bambu ayah yang belum terjual

23) ani menangkap ikan di kolam  
hari pertama menangkap 12 ikan  
hari kedua 24 ikan dan  
hari ketiga 23 ikan  
berapa jumlah ikan yang ditangkap

24) oni memetik 48 buah rambutan  
diberikan ima dan rudi  
masing masing 10 dan 20 rambutan  
berapa sisa rambutan oni



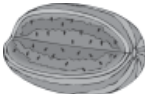
25) mana yang lebih berat antara sapu dan pensil

26) mana yang lebih berat antara  
bola kasti dan bola voli


27) sebutkan 3 contoh benda yang ringan


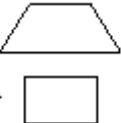

- 28) sebutkan 4 contoh benda yang berbentuk lingkaran
- 29) segiempat mempunyai berapa sisi
- 30) berbentuk apakah roda mobil







**b) ayo jawab soal soal di bawah ini**

31)    benda yang paling berat yang berhuruf ....

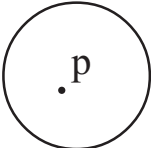
a      b      c

32)  gambar di samping berbentuk ....

34)    gambar di samping merupakan kelompok bangun berbentuk ....

34)       

gambar di atas yang termasuk kelompok lingkaran yang bernomor ....

35)  titik p pada lingkaran di samping disebut titik ....